



のこりはいくつ 4

● のこりはいくつ?
(きゅうほ)



日にち： 月 日

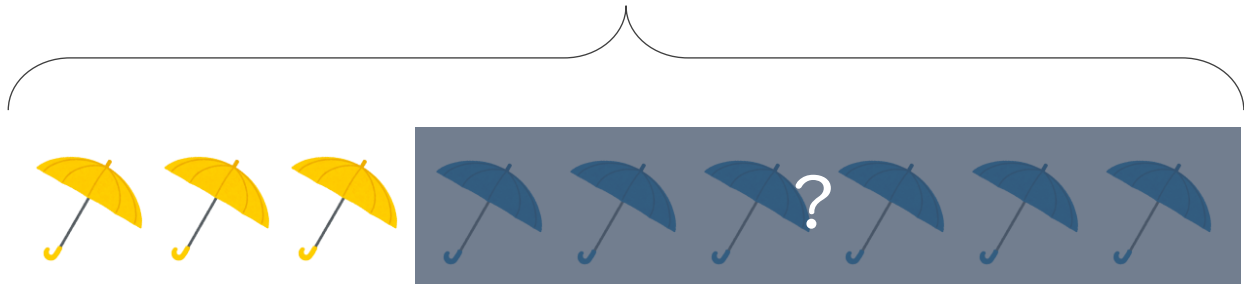
名まえ _____

・ かさが 9ほん あります。

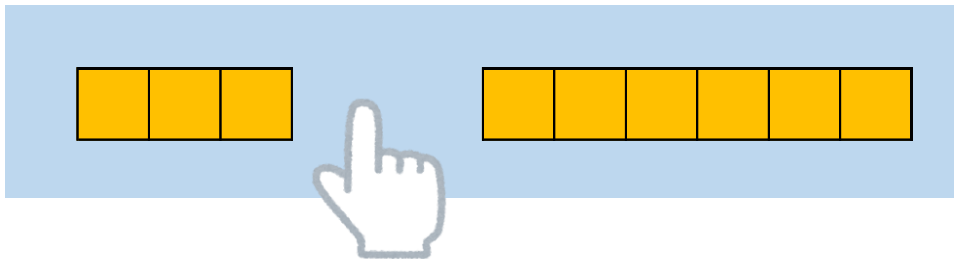
 は 3ほん です。  は なんほん ありますか。

(うすいじはなぞりましょう。)

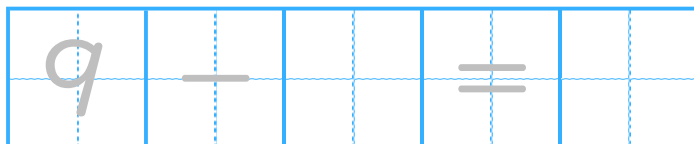
9ほん



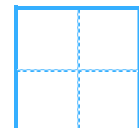
3ほん



しき



こたえ



ほん





のこりはいくつ 4

● のこりはいくつ?
(きゅうほ)



日にち： 月 日

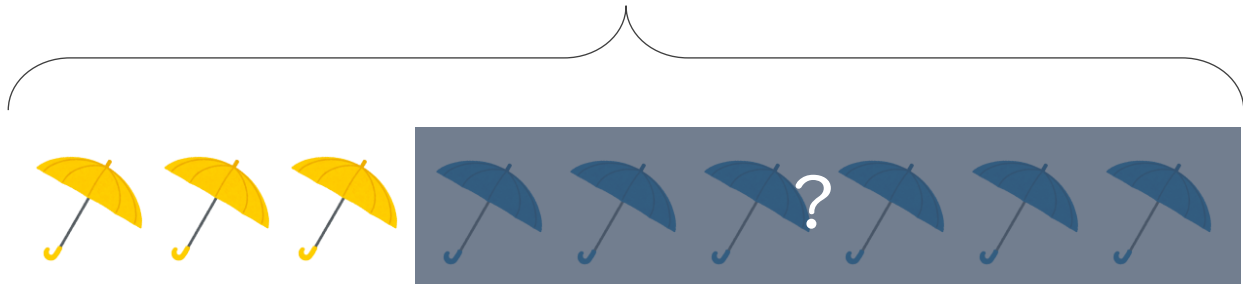
名まえ _____

・ かさが 9ほん あります。

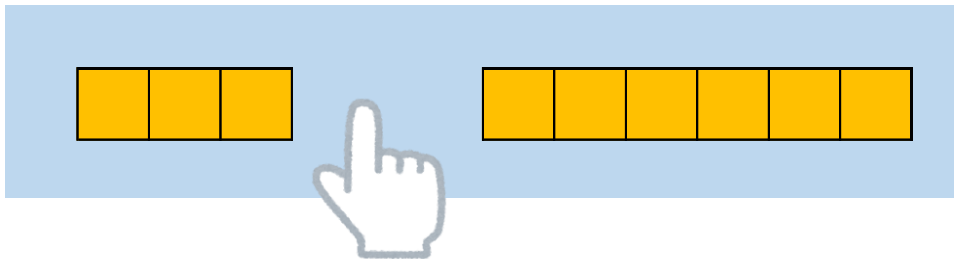
 は 3ほん です。  は なんほん ありますか。

(うすいじはなぞりましょう。)

9ほん



3ほん



しき

$$9 - 3 = 6$$

こたえ

6

ほん

