



のこりはいくつ？


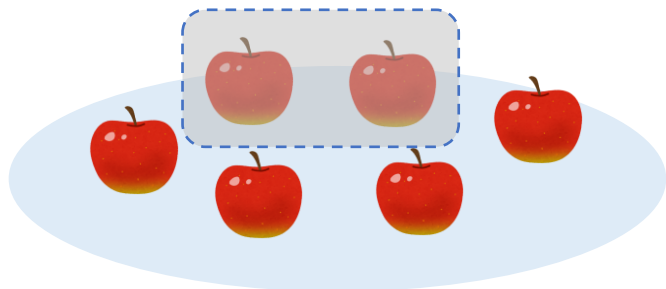
しきをつくろう



日にち： 月 日

名まえ \_\_\_\_\_

- りんごが6こあります。2こたべました。  
のこりはなんこでしょう。(うすいじはなぞりましょう。)



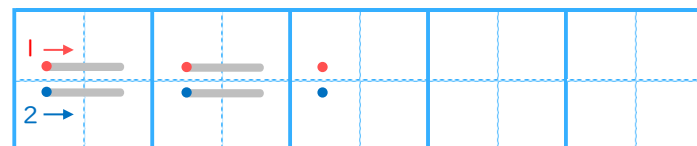
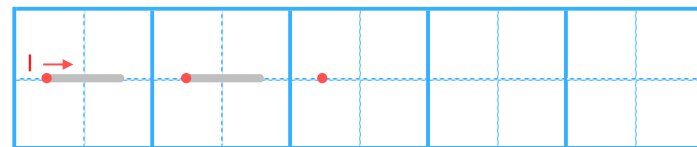
しき

	ひく		は			
6	—	2	=			

こたえ


こ

▼ れんしゅうしよう！




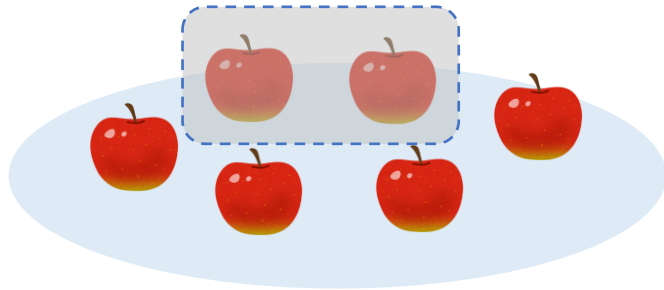


のこりはいくつ？ 2  
 ● しきをつくろう

日にち： 月 日

名まえ \_\_\_\_\_

- りんごが 6 こ あります。2 こ たべました。  
 のこりは なんこ でしょう。(うすいじは なぞり ましょう。)



しき

	ひく		は	
6	-	2	=	4

こたえ 4 こ

▼ れんしゅう しよう！

