




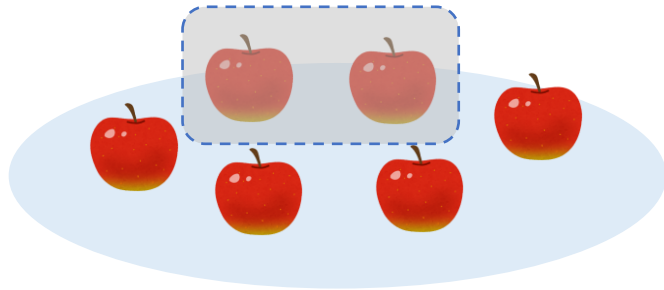
のこりはいくつ？
しきをつくろう



日にち： 月 日

名まえ _____

- りんごが6こあります。2こたべました。
のこりはなんこでしょう。(うすいじはなぞりましょう。)



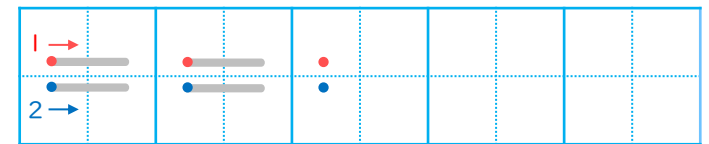
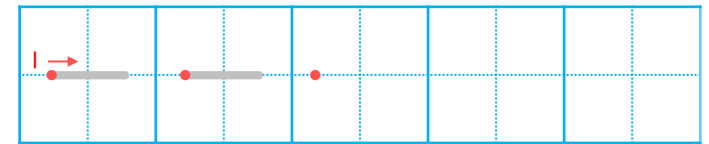
しき

	ひく		は		
6	—	2	=		

こたえ

 こ

▼ れんしゅうしよう！





のこりはいくつ？


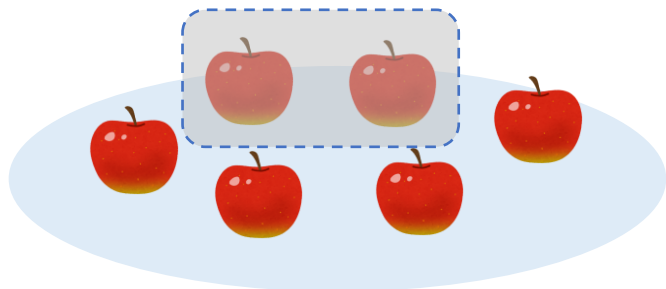
しきをつくろう



日にち： 月 日

名まえ _____

- りんごが6こあります。2こたべました。
のこりはなんこでしょう。(うすいじはなぞりましょう。)



しき

	ひく		は	
6	-	2	=	4

こたえ 4 こ

れんしゅうしよう！

