



おおきいかず 14

十のたばのたしざん

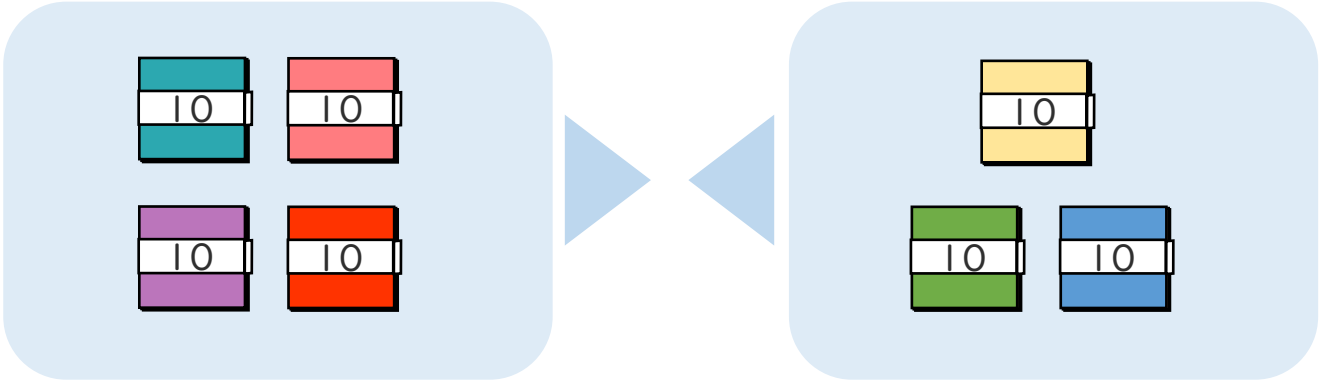


日にち： 月 日

名まえ _____

・ □ にかずをかきましょう。(うすいじはなぞりましょう。)

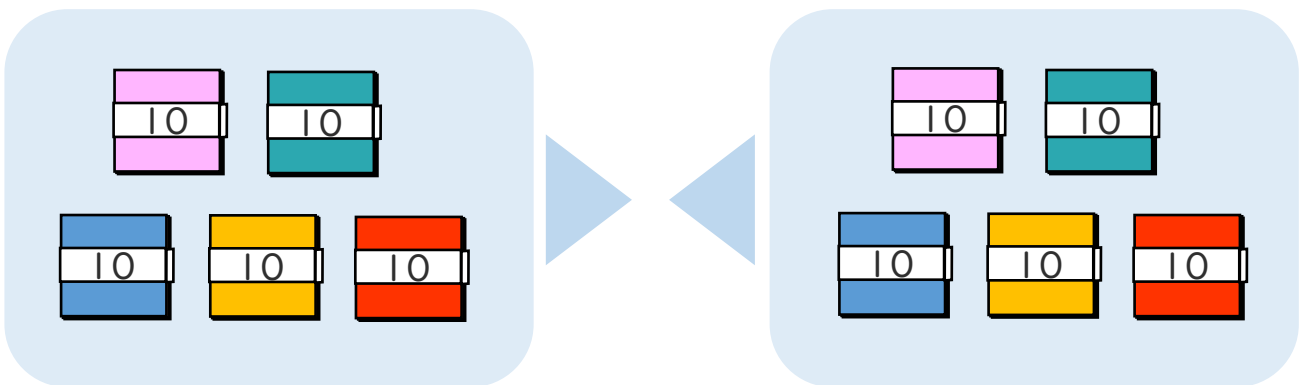
① 40+30の こたえはいくつですか。



10のたばが $4 + 3 = \square$ で \square こだから

$$40 + 30 = \square$$

② 50+50の こたえはいくつですか。



10のたばが $5 + 5 = \square$ で \square こだから

$$50 + 50 = \square$$





おおきいかず 14

十のたばのたしざん

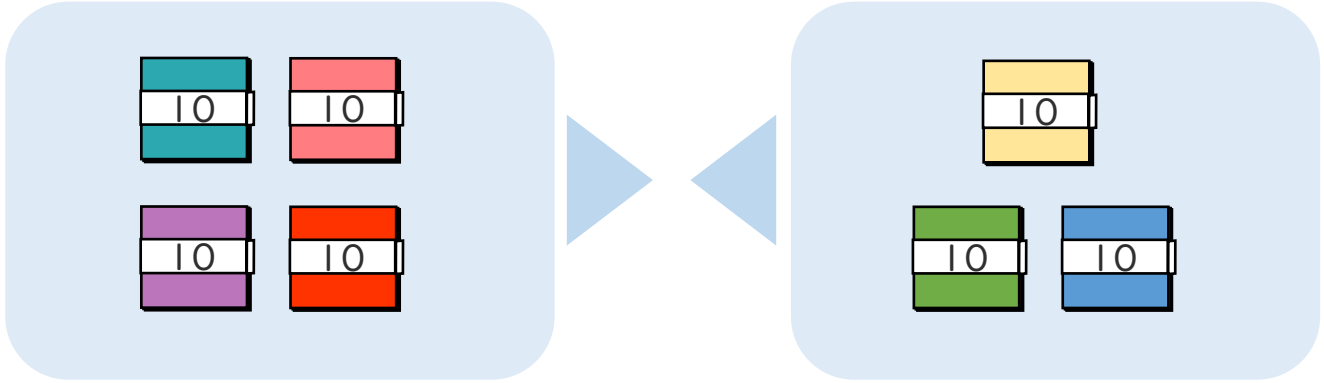


日にち： 月 日

名まえ _____

・ □ にかずをかきましょう。(うすいじはなぞりましょう。)

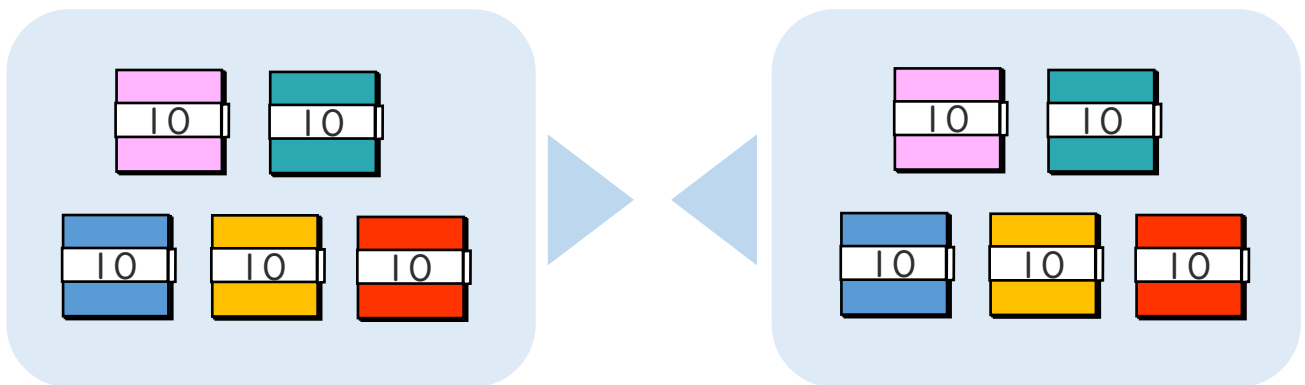
① $40 + 30$ の こたえは いくつですか。



10のたばが $4 + 3 = 7$ で 7 こだから

$$40 + 30 = 70$$

② $50 + 50$ の こたえは いくつですか。



10のたばが $5 + 5 = 10$ で 10 こだから

$$50 + 50 = 100$$

