



# おおきいかず 17

十のたばのひきざん

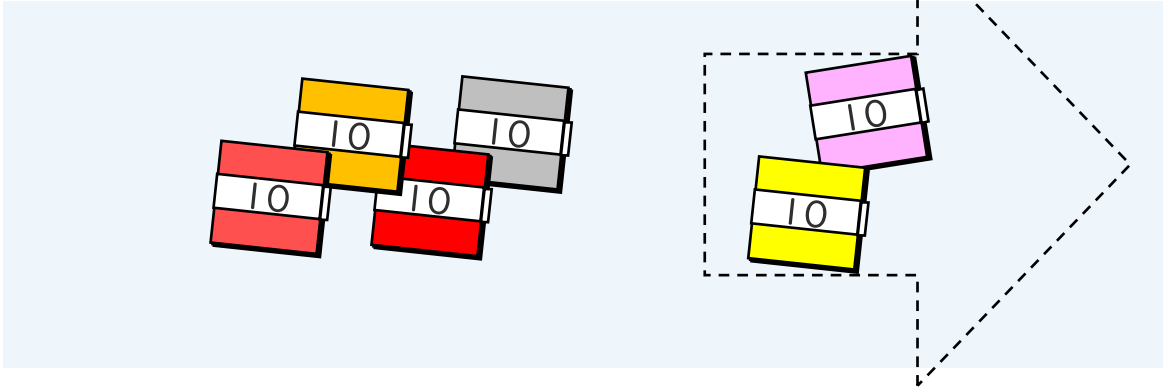


日にち： 月 日

名まえ \_\_\_\_\_

・ □ にかずをかきましょう。(うすいじはなぞりましょう。)

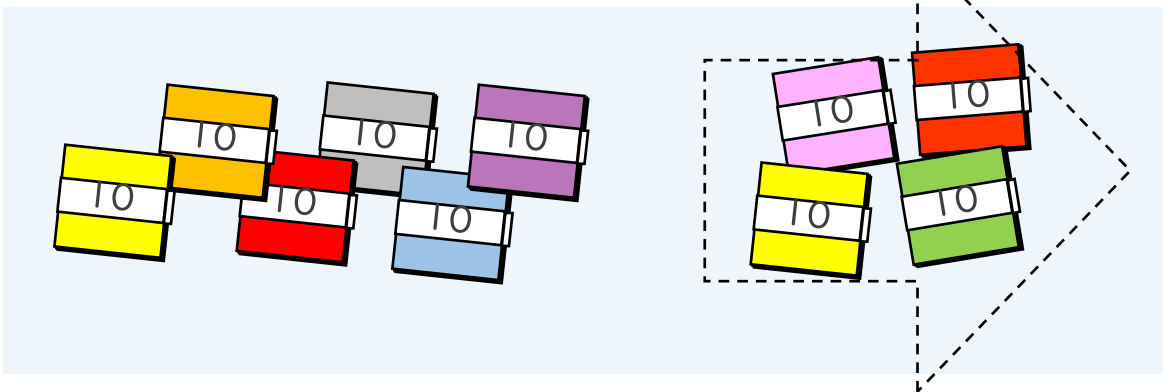
① 60-20の こたえはいくつですか。



10のたばが  $6 - 2 = \square$  で  $\square$  こだから

$$60 - 20 = \square$$

② 100-40の こたえはいくつですか。



10のたばが  $10 - 4 = \square$  で  $\square$  こだから

$$100 - 40 = \square$$





# おおきいかず 17

十のたばのひきざん

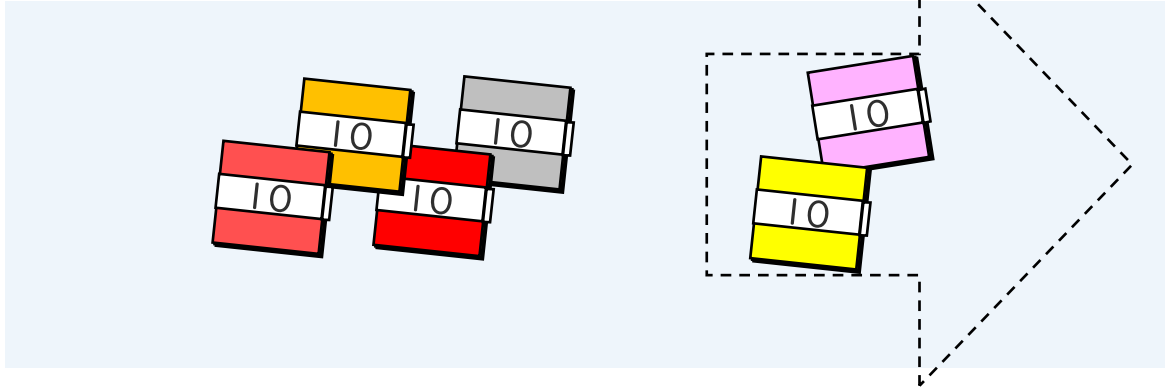


日にち： 月 日

名まえ \_\_\_\_\_

・ □ にかずをかきましょう。(うすいじはなぞりましょう。)

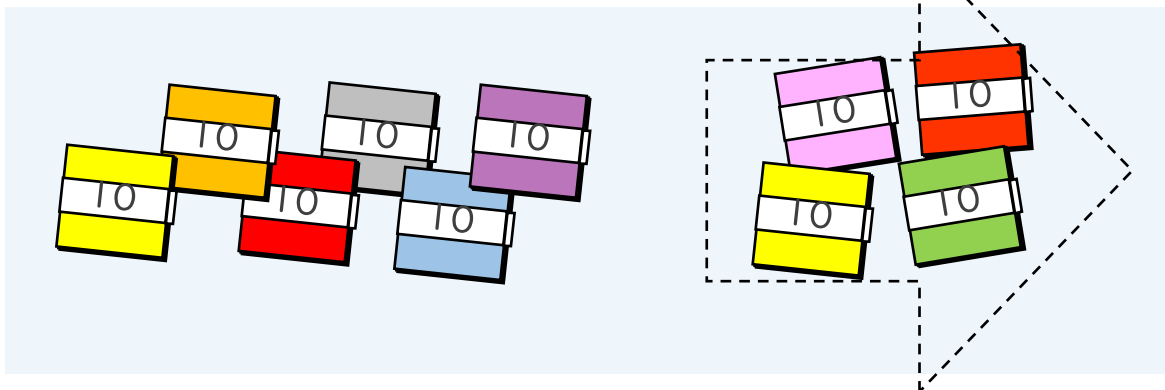
①  $60 - 20$ のこたえはいくつですか。



10のたばが  $6 - 2 = 4$  で  $4$  こだから

$$60 - 20 = 40$$

②  $100 - 40$ のこたえはいくつですか。



10のたばが  $10 - 4 = 6$  で  $6$  こだから

$$100 - 40 = 60$$

