



くりあがりのある  
たしざん 8


● えとぶんしょうから  
しきをつくろう




日にち：            月            日

名まえ \_\_\_\_\_

1 にんじんは あわせて なんぼん ですか。しきをかきましょう。  
(うすいじは なぞりましょう。)



9 ぼん



3 ぼん

しき：  +  =

2 けえきは あわせて なんこ ですか。しきをかきましょう。



7 こ



8 こ

しき：  +  =



くりあがりのある  
たしざん 8


● えとぶんしょうから  
しきをつくろう




日にち：            月            日

名まえ \_\_\_\_\_

1 にんじんは あわせて なんぼん ですか。しきをかきましょう。  
(うすいじは なぞりましょう。)



9 ぼん



3 ぼん

しき：  $\boxed{9} + \boxed{3} = \boxed{12}$

2 けえきは あわせて なんこ ですか。しきをかきましょう。



7 こ



8 こ

しき：  $\boxed{7} + \boxed{8} = \boxed{15}$

