



のこりはいくつ 10

◎ 0のひきざん

2

日にち： 月 日

名まえ _____

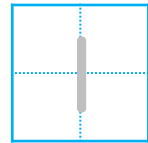
・ かあどを 3まい もっています。

のこりの かあどは なんまいですか。(うすいじはなぞりましょう。)

① 2まい だすと



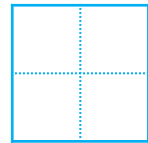
$$3 - 2 =$$



② 3まい だすと



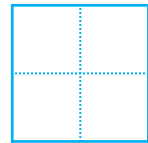
$$3 - 3 =$$




③ 1まいも ださない



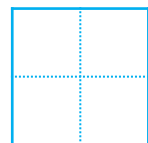
$$3 - 0 =$$



④ 1まい だすと



$$3 - 1 =$$





のこりはいくつ 10

◎ 0のひきざん

2

日にち： 月 日

名まえ _____

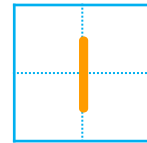
・ かあどを 3まいもっています。

のこりの かあどは なんまいですか。(うすいじはなぞりましょう。)

① 2まいだと



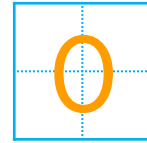
$$3 - 2 =$$



② 3まいだと



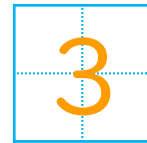
$$3 - 3 =$$




③ 1まいも ださないと



$$3 - 0 =$$



④ 1まいだと



$$3 - 1 =$$

