



# あわせていくつ8

0のたしざん




日にち：            月            日

名まえ \_\_\_\_\_

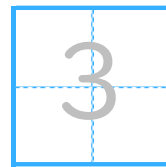
・ たまのかずをあわせるといくつでしょう。

(うすいじはなぞりましょう。)

①



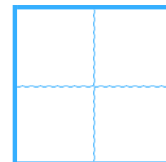
$$3 + 0 =$$



②



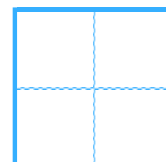
$$0 + 1 =$$




③



$$0 + 0 =$$





# あわせていくつ8

● 0のたしざん



日にち：          月          日

名まえ \_\_\_\_\_

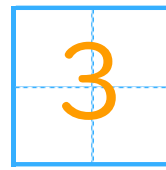
・ たまのかずをあわせるといくつでしょう。

(うすいじはなぞりましょう。)

①



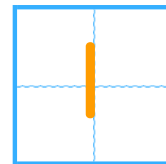
$$3 + 0 =$$



②



$$0 + 1 =$$



③



$$0 + 0 =$$

