



あわせていくつ8

● 0のたしざん




日にち： 月 日

名まえ _____

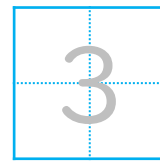
・ たまのかずをあわせるといくつでしょう。

(うすいじはなぞりましょう。)

①



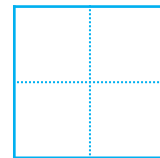
$$3 + 0 =$$



②



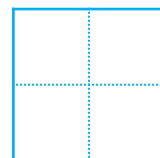
$$0 + 1 =$$



③



$$0 + 0 =$$





あわせていくつ8

● 0のたしざん




日にち： 月 日

名まえ _____

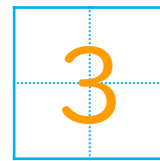
・ たまのかずをあわせるといくつでしょう。

(うすいじはなぞりましょう。)

①



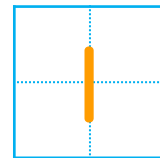
$$3 + 0 =$$



②



$$0 + 1 =$$



③



$$0 + 0 =$$

