



のこりはいくつ？

◎ 10 から ひく ひきざん

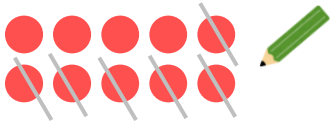
2

日にち： 月 日

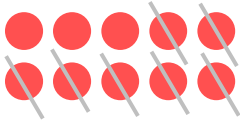
名まえ _____

- ひきざんをしましょう。(うすいじはなぞりましょう。)

① $10 - 6 =$



② $10 - 7 =$



③ $10 - 8 =$



④ $10 - 9 =$



⑤ $10 - 1 =$





のこりはいくつ？

◎ 10 から ひく ひきざん


2

日にち： 月 日


名まえ _____

・ ひきざんを しましょう。(うすいじはなぞりましょう。)


$$\textcircled{1} \quad 10 - 6 = \boxed{4}$$




$$\textcircled{2} \quad 10 - 7 = \boxed{3}$$



$$\textcircled{3} \quad 10 - 8 = \boxed{2}$$



$$\textcircled{4} \quad 10 - 9 = \boxed{1}$$



$$\textcircled{5} \quad 10 - 1 = \boxed{9}$$

