



10より
おおきいかず 10

● 10といくつかをたしたしき




日にち： 月 日

名まえ _____

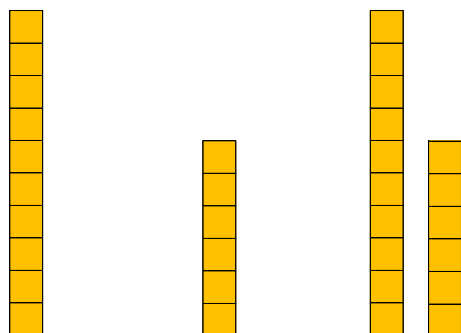
- にかずをかきましょう。(うすいじはなぞりましょう。)

① 10に7をたしたかずは です。



$$\text{しき} : 10 + 7 = \text{□}$$

② 10に6をたしたかずは です。



$$\text{しき} : 10 + 6 = \text{□}$$





10より
おおきいかず 10
● 10といくつかをたしたしき




日にち： 月 日

名まえ _____

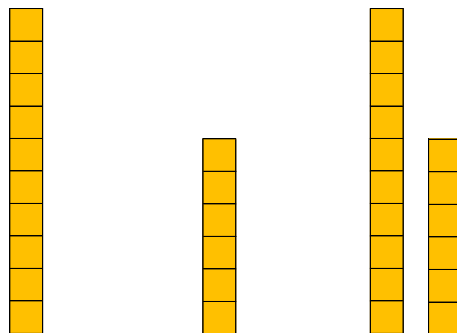
- にかずをかきましょう。(うすいじはなぞりましょう。)

① 10に7をたしたかずは **17** です。



$$\text{しき} : 10 + 7 = \mathbf{17}$$

② 10に6をたしたかずは **16** です。



$$\text{しき} : 10 + 6 = \mathbf{16}$$

