



10より
おおきいかず 12

2

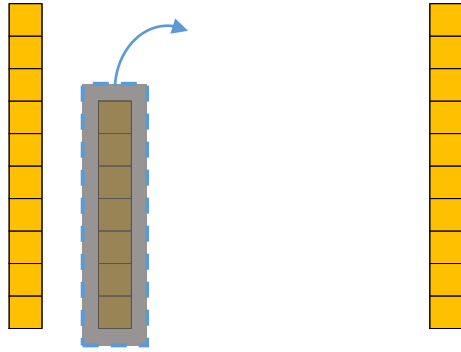
◎ 10になる ひきざん

日にち： 月 日

名まえ _____

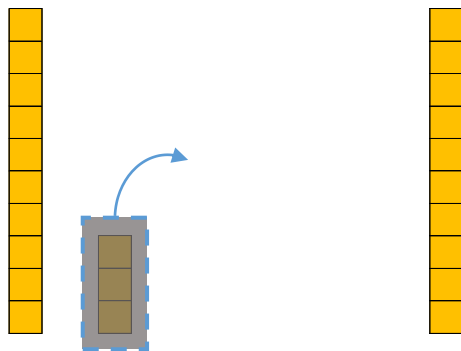
- にかずをかきましょう。(うすいじはなぞりましょう。)

① 17から 7をひいたかずは □ です。



$$\text{しき} : 17 - 7 = 10$$

② 13から 3をひいたかずは □ です。



$$\text{しき} : 13 - 3 = \square$$





10より
おおきいかず 12

2

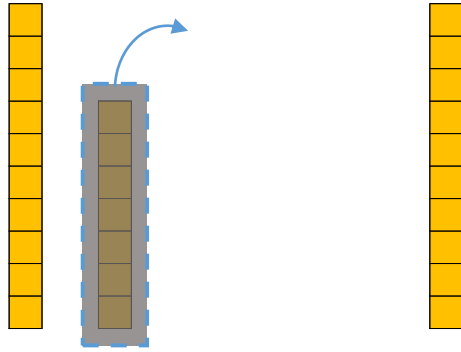
● 10になる ひきざん

日にち： 月 日

名まえ _____

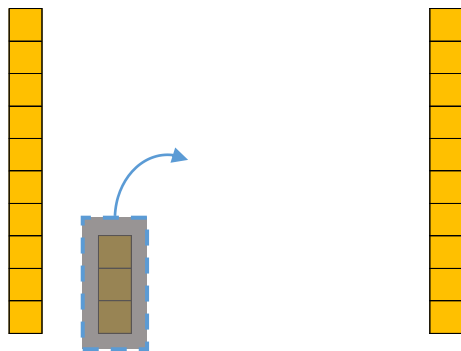
- にかずをかきましょう。(うすいじはなぞりましょう。)

① 17から 7をひいたかずは **10** です。



$$\text{しき} : 17 - 7 = \mathbf{10}$$

② 13から 3をひいたかずは **10** です。



$$\text{しき} : 13 - 3 = \mathbf{10}$$

