



10より  
おおきいかず 11

● 10より おおきいかずの  
たしざん

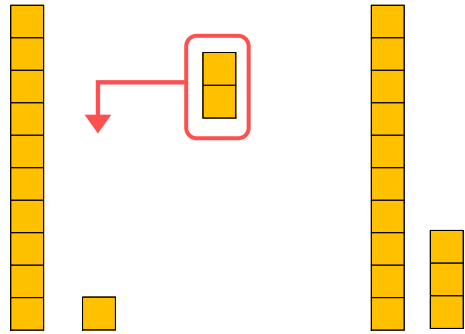


日にち：            月            日

名まえ \_\_\_\_\_

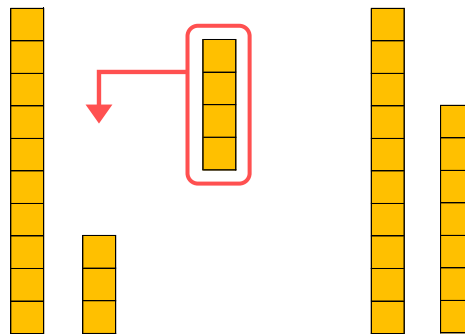
- にかずをかきましょう。(うすいじはなぞりましょう。)

① 11に 2を たした かずは □ です。



$$\text{しき} : 11 + 2 = 13$$

② 13に 4を たした かずは □ です。



$$\text{しき} : 13 + 4 = \square$$



10より  
おおきいかず 11

● 10より おおきいかずの  
たしざん

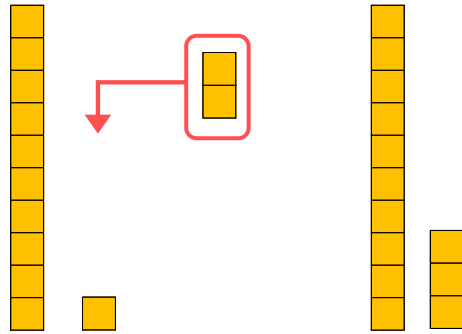


日にち：            月            日

名まえ \_\_\_\_\_

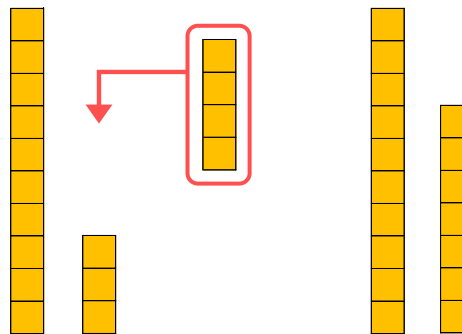
- にかずをかきましょう。(うすいじはなぞりましょう。)

① 11に 2を たした かずは **13** です。



$$\text{しき} : 11 + 2 = 13$$

② 13に 4を たした かずは **17** です。



$$\text{しき} : 13 + 4 = 17$$

