



おおきいかず 13

◎ 2けたと1けたのたしざん

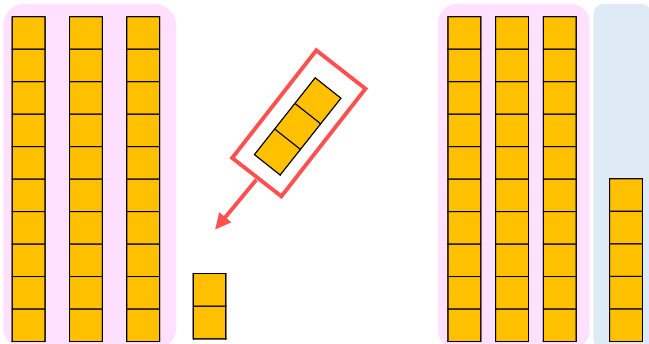


日にち： 月 日

名まえ _____

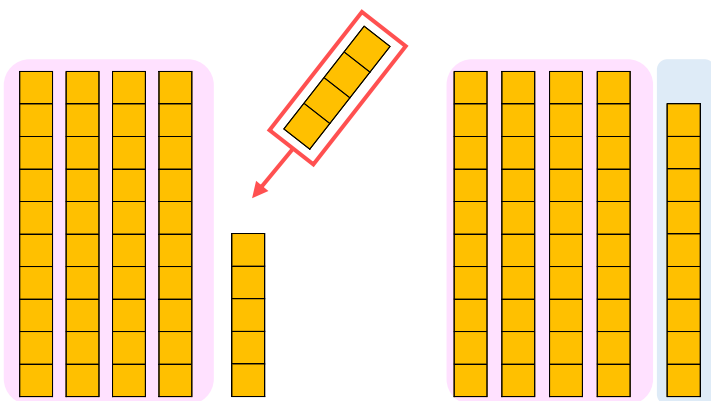
- にかずをかきましょう。(うすいじはなぞりましょう。)

① 32に3をたしたかずは です。



しき： $32 + 3 = \square$

② 45に4をたしたかずは です。



しき： $45 + 4 = \square$





おおきいかず 13

◎ 2けたと1けたのたしざん

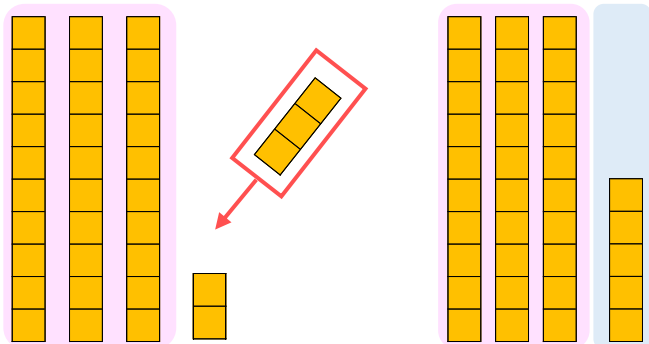


日にち： 月 日

名まえ _____

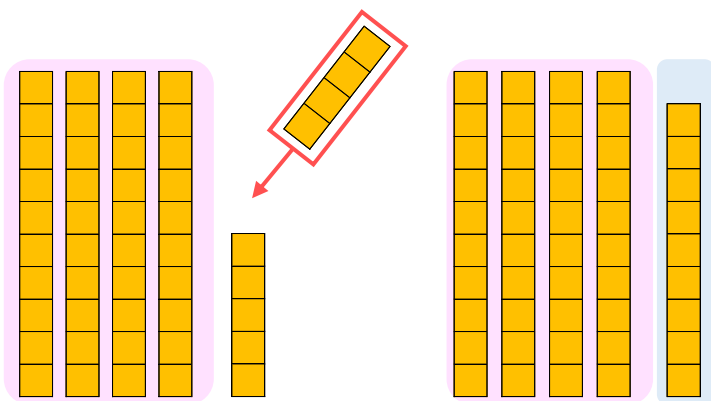
- にかずをかきましょう。(うすいじはなぞりましょう。)

① 32に3をたしたかずは **35** です。



$$\text{しき} : 32 + 3 = 35$$

② 45に4をたしたかずは **49** です。



$$\text{しき} : 45 + 4 = 49$$

