



# おおきいかず 13

◎ 2けたと1けたのたしざん

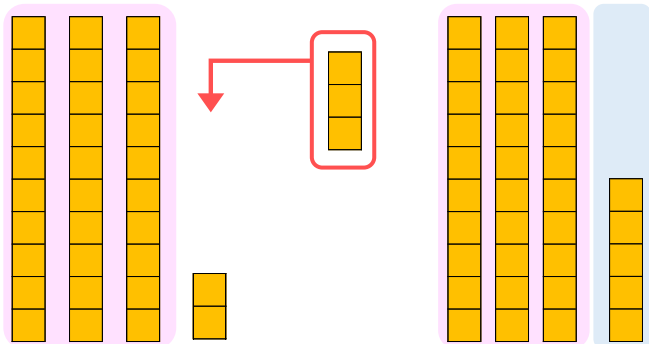


日にち：            月            日

名まえ \_\_\_\_\_

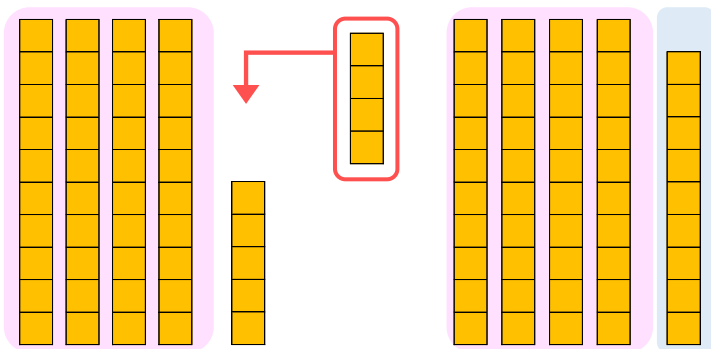
- にかずをかきましょう。(うすいじはなぞりましょう。)

① 32に3をたしたかずは  です。



しき：  $32 + 3 = \square$

② 45に4をたしたかずは  です。



しき：  $45 + 4 = \square$





# おおきいかず 13

◎ 2けたと1けたのたしざん

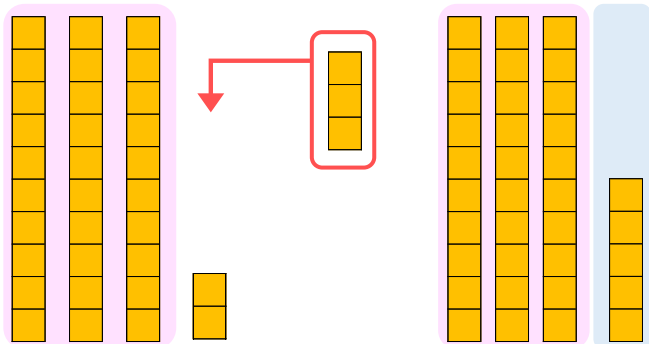
2

日にち：            月            日

名まえ \_\_\_\_\_

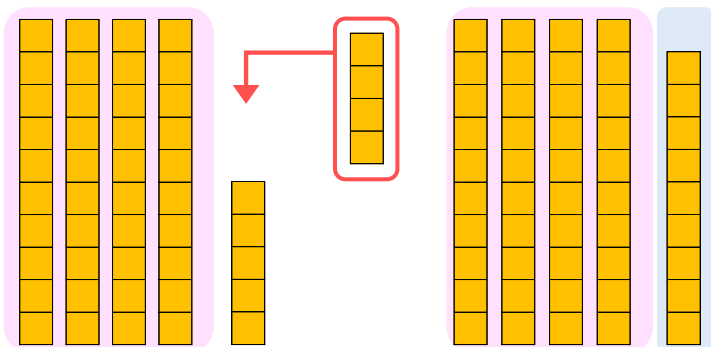
- にかずをかきましょう。(うすいじはなぞりましょう。)

① 32に3をたしたかずは **35** です。



$$\text{しき： } 32 + 3 = 35$$

② 45に4をたしたかずは **49** です。



$$\text{しき： } 45 + 4 = 49$$

