



おおきいかず 16

2けたと1けたのひきざん

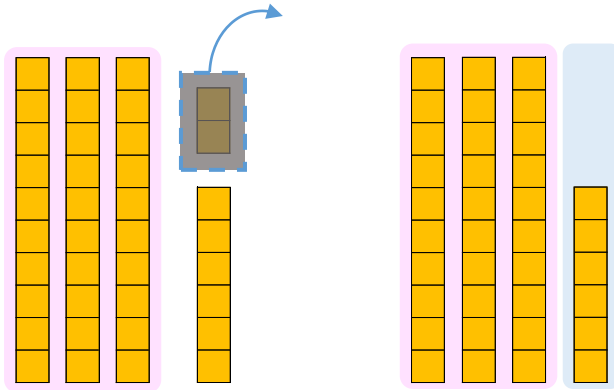


日にち： 月 日

名まえ _____

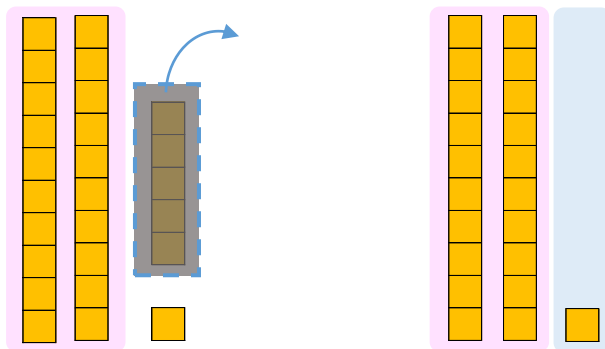
- にかずをかきましょう。(うすいじはなぞりましょう。)

① 38から2をひいたかずは です。



$$\text{しき： } 38 - 2 = \square$$

② 26から5をひいたかずは です。



$$\text{しき： } 26 - 5 = \square$$





おおきいかず 16

2けたと1けたのひきざん

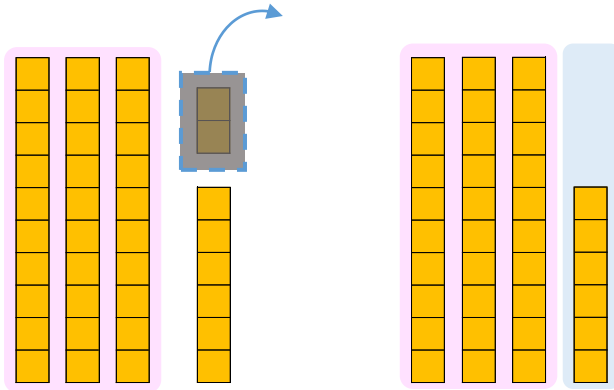


日にち： 月 日

名まえ _____

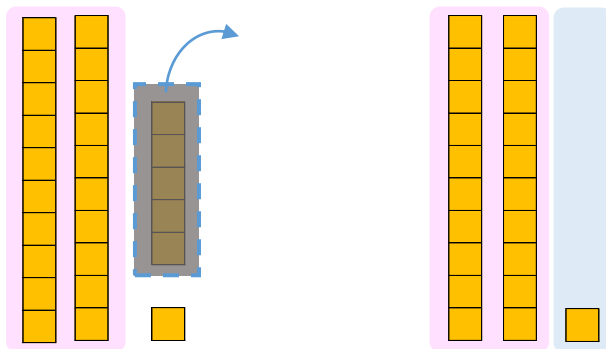
- にかずをかきましょう。(うすいじはなぞりましょう。)

① 38から2をひいたかずは **36** です。



$$\text{しき： } 38 - 2 = 36$$

② 26から5をひいたかずは **21** です。



$$\text{しき： } 26 - 5 = 21$$

