



3つの かずのけいさん!

● 3つのかずのたしざんをしきにあらわしてみよう



日にち： 月 日

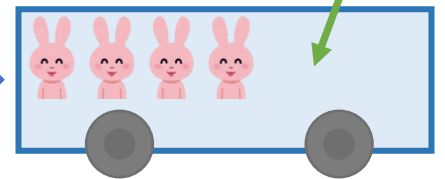
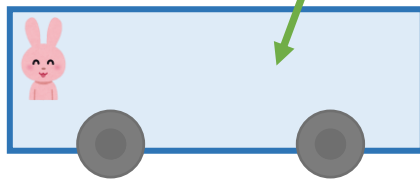
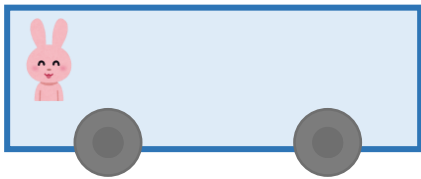
名まえ _____

- うさぎは、みんなでなんびきになりましたか。
(うすいじはなぞりましょう。)

1びきのっています。

3びきのります。

4ひきのります。



☆ 1つのしきにあらわしてみましよう。

しき： $\begin{array}{c} \square \\ | \\ \square \end{array} + \begin{array}{c} \square \square \square \\ | \\ \square \end{array} + \begin{array}{c} \square \square \square \square \\ | \\ \square \end{array} = \begin{array}{c} \square \square \square \square \square \\ | \\ \square \end{array}$

4

こたえ： ひき



3つの かずのけいさん!

◎3つのかずのたしざんをしきにあらわしてみよう



日にち： 月 日

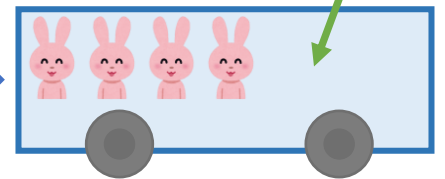
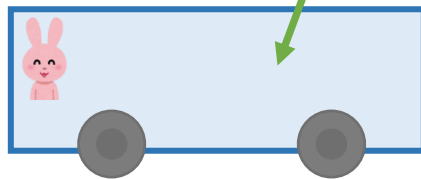
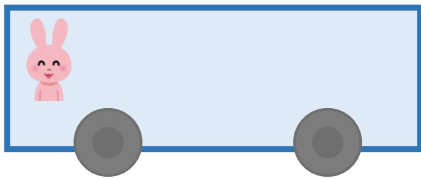
名まえ _____

- うさぎは、みんなでなんびきになりましたか。
(うすいじはなぞりましょう。)

1びきのっています。

3びきのります。

4びきのります。



☆1つのしきにあらわしてみましよう。

しき： $1 + 3 + 4 = 8$

4

こたえ： 8 びき