



# 3つの かずのけいさん 4

3つのかずのたしひきの  
ぶんしょうもんだい



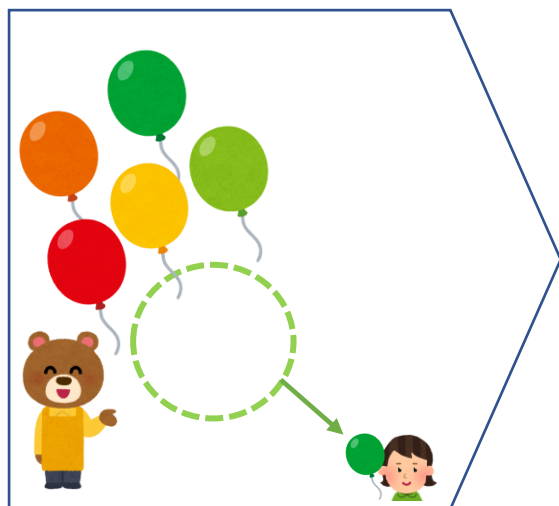
日にち：            月            日

名まえ \_\_\_\_\_

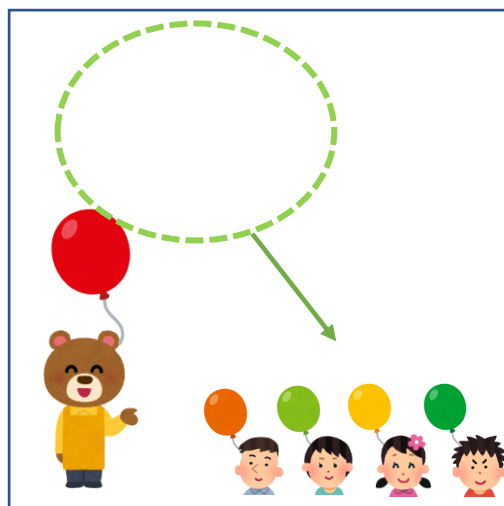
1 ふうせんは、なんこになりましたか。(うすいじはなぞりましょう。)



6こあります。



1こあげました。



4こあげました。

しき：

—      —      =

こたえ：

\_\_\_\_\_

2 すずめが 7わ とまっています。4わ とんでいきました。  
そのあと 2わ もどってきました。

すずめは なんわ とまっていますか。(うすいじは  
なぞりましょう。)

しき：

\_\_\_\_\_

こたえ：

わ

\_\_\_\_\_





# 3つの かずのけいさん 4

3つのかずのたしひきの  
ぶんしょうもんだい



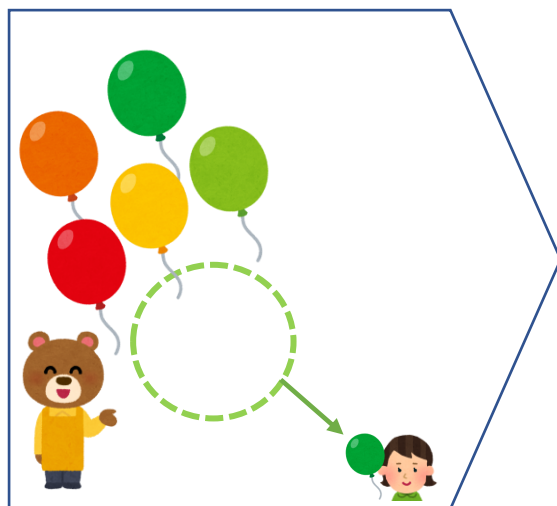
日にち：            月            日

名まえ \_\_\_\_\_

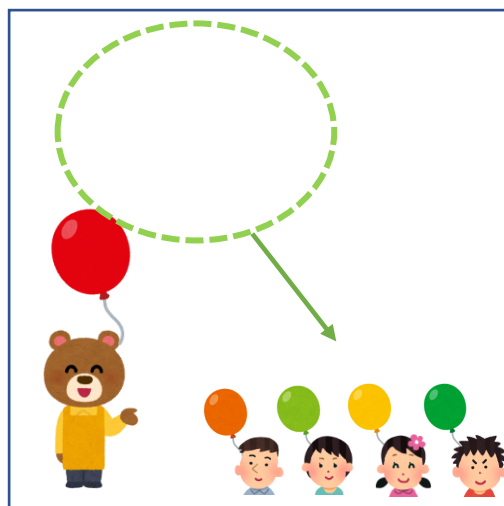
1 ふうせんは、なんこになりましたか。(うすいじはなぞりましょう。)



6こあります。



1こあげました。



4こあげました。

しき：

$$6 - 1 - 4 = 1$$

こたえ：    1こ

2 すずめが 7わ とまっています。4わ とんでいきました。  
そのあと 2わ もどってきました。  
すずめは なんわ とまっていますか。(うすいじは  
なぞりましょう。)

しき：

$$7 - 4 + 2 = 5$$

こたえ：    5わ

