



おおきいかず 12

● 30と5をあわせた数

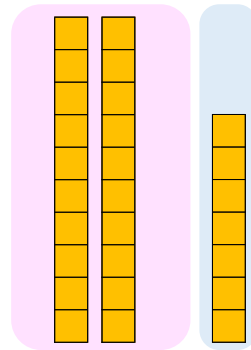


日にち： 月 日

名まえ _____

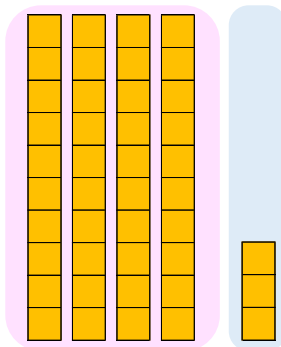
- にかずをかきましょう。(うすいじはなぞりましょう。)

① 20と7をあわせたかずは です。



しき： $20 + 7 =$

② 40と3をあわせたかずは です。



しき： $40 + 3 =$





おおきいかず 12

● 30と5をあわせた数

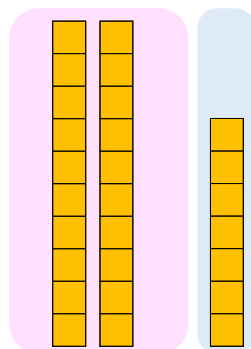


日にち： 月 日

名まえ _____

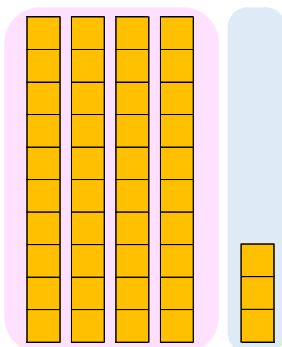
- にかずをかきましょう。(うすいじはなぞりましょう。)

① 20と7をあわせたかずは **27** です。



$$\text{しき} : 20 + 7 = \mathbf{27}$$

② 40と3をあわせたかずは **43** です。



$$\text{しき} : 40 + 3 = \mathbf{43}$$

