



おおきいかず 15

◎ 33 から 3 をひいた数

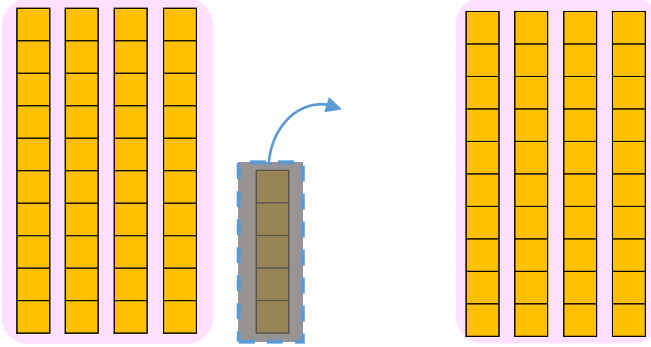


日にち： 月 日

名まえ _____

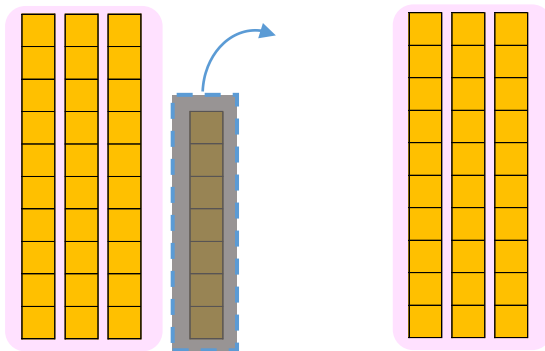
- にかずをかきましょう。(うすいじはなぞりましょう。)

① 45から5をひいたかずは です。



しき： $45 - 5 =$

② 37から7をひいたかずは です。



しき： $37 - 7 =$





おおきいかず 15

◎ 33 から 3 をひいた数

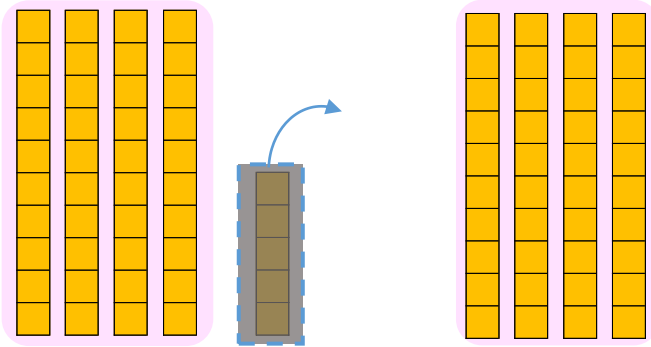


日にち： 月 日

名まえ _____

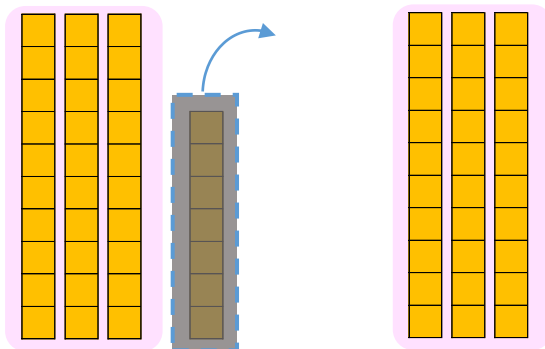
- にかずをかきましょう。(うすいじはなぞりましょう。)

① 45から5をひいたかずは **40** です。



$$\text{しき： } 45 - 5 = \mathbf{40}$$

② 37から7をひいたかずは **30** です。



$$\text{しき： } 37 - 7 = \mathbf{30}$$

