



あわせていくつ4

● あとからふえる



日にち： 月 日

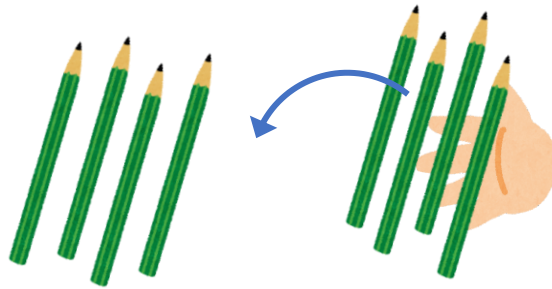
名まえ _____

・ しきにかいてこたえましょう。(うすいじはなぞりましょう。)

① ゆいさんは えんぴつを 4ほん もっています。

おかあさんから 4ほん もらいました。

えんぴつは ぜんぶで なんぼん になりましたか。



しき

		+			=		
--	--	---	--	--	---	--	--


こたえ

--	--

ほん

② とりが 3わ いました。あとから 2わ きました。

とりは ぜんぶで なんわ になりましたか。



しき

		+			=		
--	--	---	--	--	---	--	--

こたえ

--	--

わ





あわせていくつ4

● あとからふえる



日にち： 月 日

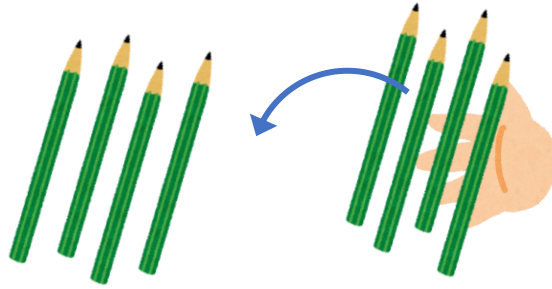
名まえ _____

・ しきにかいてこたえましょう。(うすいじはなぞりましょう。)

① ゆいさんは えんぴつを 4ほん もっています。

おかあさんから 4ほん もらいました。

えんぴつは ぜんぶで なんぼんになりましたか。



しき

4	+	4	=	8
---	---	---	---	---


こたえ

8

 ほん

② とりが 3わ いました。あとから 2わ きました。

とりは ぜんぶで なんわになりましたか。



しき

3	+	2	=	5
---	---	---	---	---

こたえ

5

 わ

