



あわせていくつ？

いろいろなかずのたしざん



日にち：            月            日

名まえ \_\_\_\_\_

・ たしざんをしましょう。(うすいじはなぞりましょう。)

①  $5 + 5 =$

②  $6 + 1 =$

③  $6 + 2 =$

④  $6 + 3 =$

⑤  $6 + 4 =$



あわせていくつ？

いろいろなかずのたしざん



日にち：            月            日

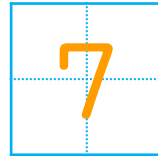
名まえ \_\_\_\_\_

・ たしざんを しましょう。(うすいじはなぞりましょう。)

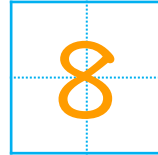
①  $5 + 5 =$



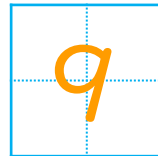
②  $6 + 1 =$



③  $6 + 2 =$



④  $6 + 3 =$



⑤  $6 + 4 =$

