



のこりはいくつ！

● えをみてかんがえよう

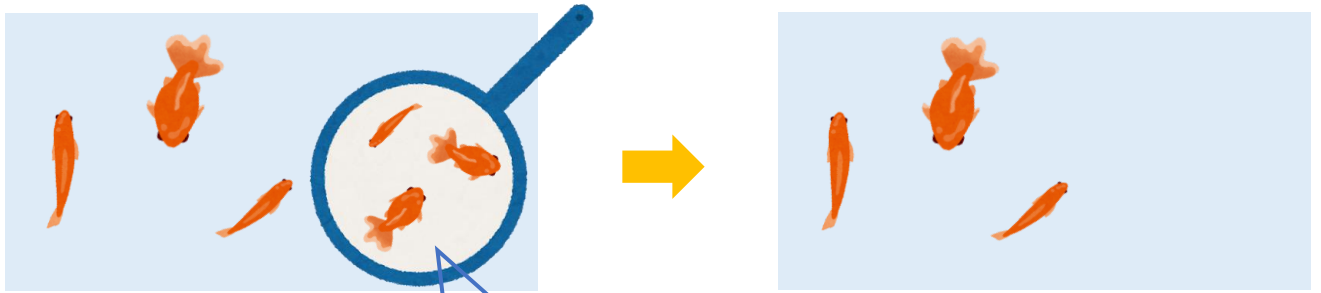
3

日にち： 月 日

名まえ _____

- きんぎょがいます。すくうとのこりはなんびきでしょう。
(うすいじはなぞりましょう。)

①

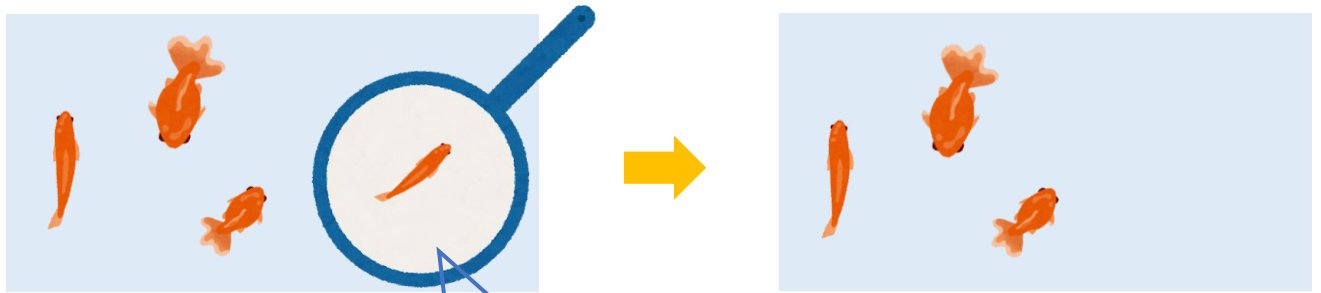


6 びき
いる

びき
すくう

びき
のこり

②



4 びき
いる

びき
すくう

びき
のこり

③ 確認



すらすらぷりんと



のこりはいくつ！

● えをみてかんがえよう

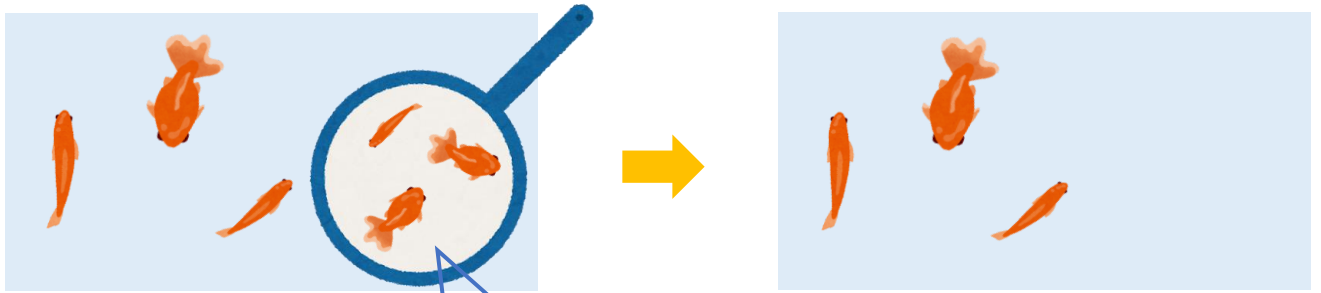


日にち： 月 日

名まえ _____

- きんぎょがいます。すくうとのこりはなんびきでしょう。
(うすいじはなぞりましょう。)

①

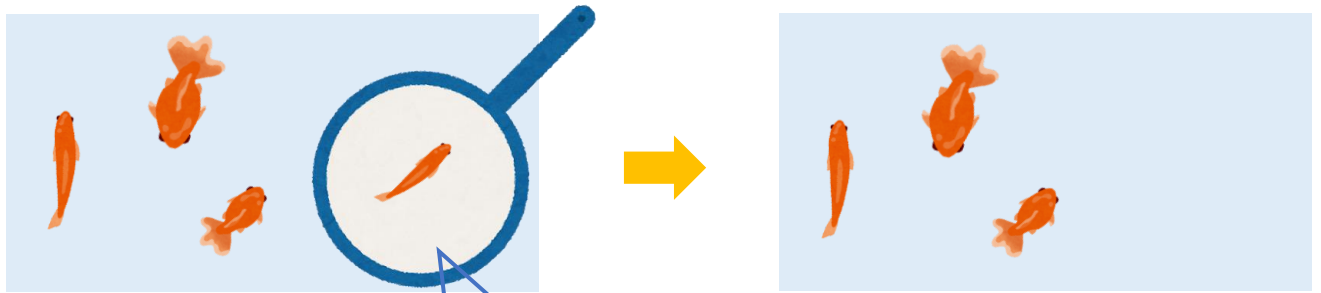


6 びき
いる

3 びき
すくう

3 びき
のこり

②



4 びき
いる

1 びき
すくう

3 びき
のこり

③ 確認 答え



すらすらぷりんと