

くりあがりのある
たしざん 6

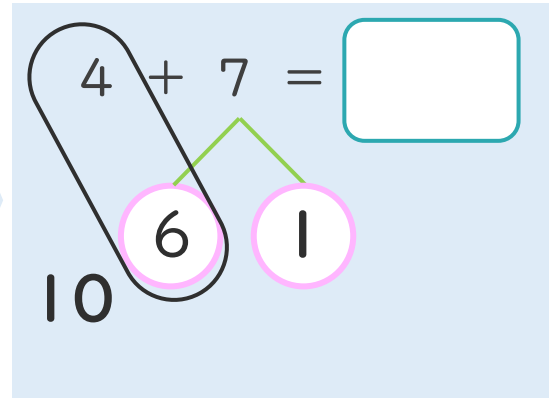
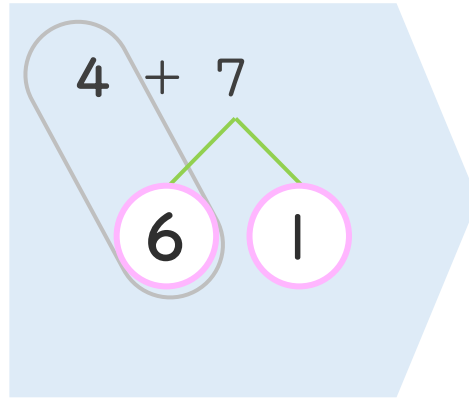
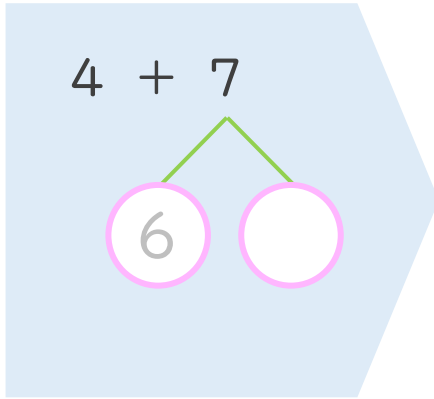
● くりあがりのけいさん
(4や3とたす)



日にち： 月 日

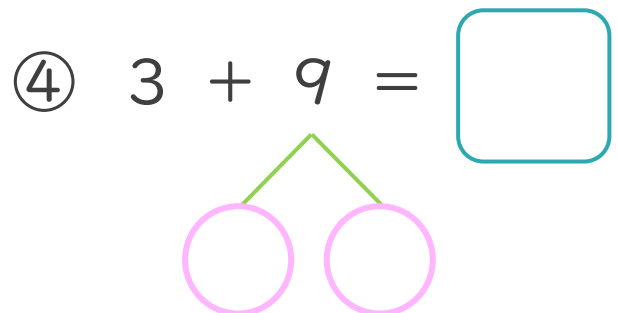
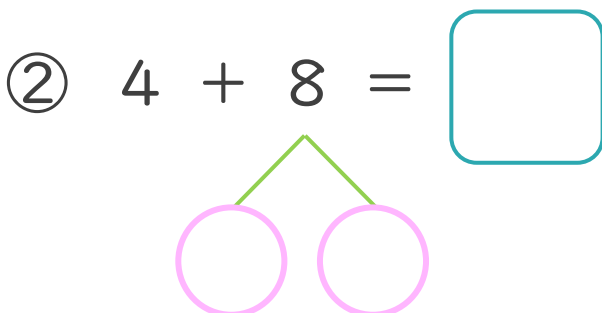
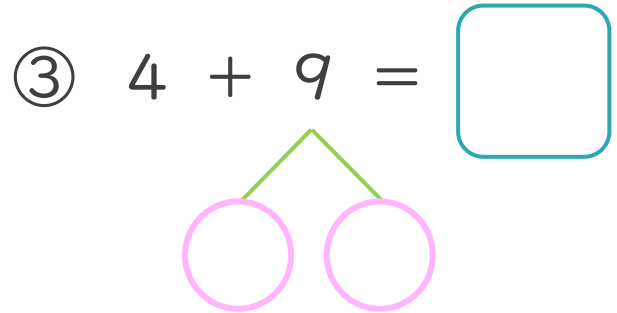
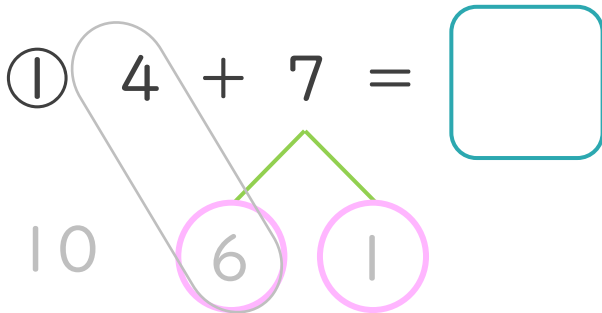
名まえ _____

< 4 + 7 の けいさんの しかた > (うすいじはなぞりましょう。)



- ① 7を
6と1に
わけます。
- ② 4に6を
たして10。
- ③ 10と1で11。

・ けいさんをしましょう。(うすいじはなぞりましょう。)





くりあがりのある
たしざん 6

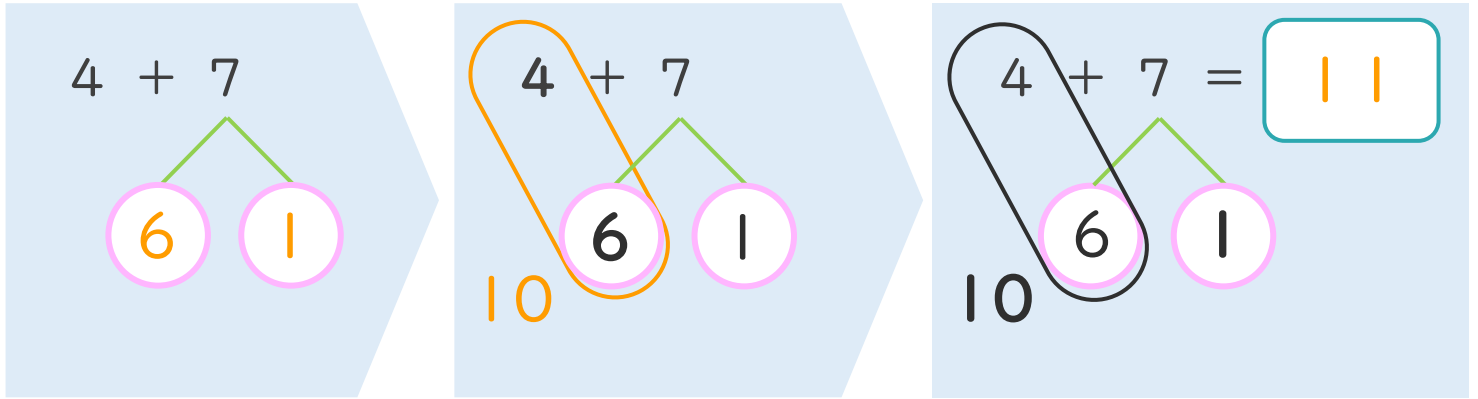
● くりあがりのけいさん
(4や3とたす)



日にち： 月 日

名まえ _____

< 4 + 7 の けいさんの しかた > (うすいじはなぞりましょう。)



- ① 7を
6と1に
わけます。
- ② 4に6を
たして10。
- ③ 10と1で11。

・ けいさんを しましょう。(うすいじはなぞりましょう。)

① $4 + 7 = 11$

③ $4 + 9 = 13$

② $4 + 8 = 12$

④ $3 + 9 = 12$

