

くりあがりのある
たしざん 5

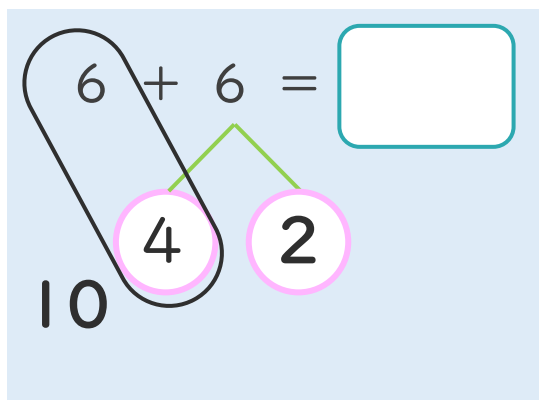
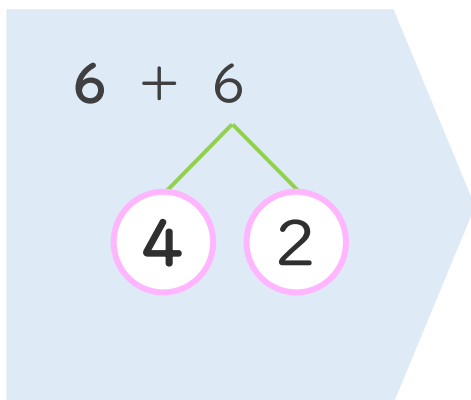
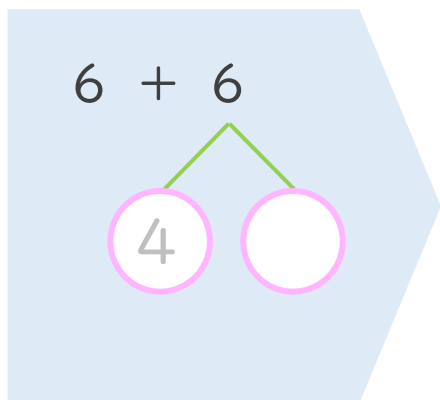
● くりあがりのけいさん
(6や5とたす)



日にち： 月 日

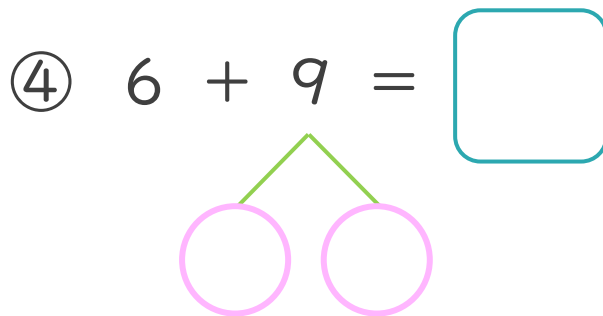
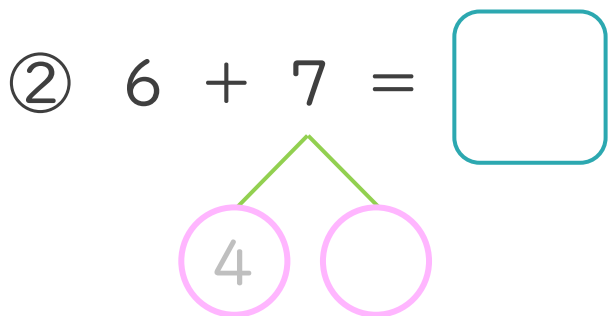
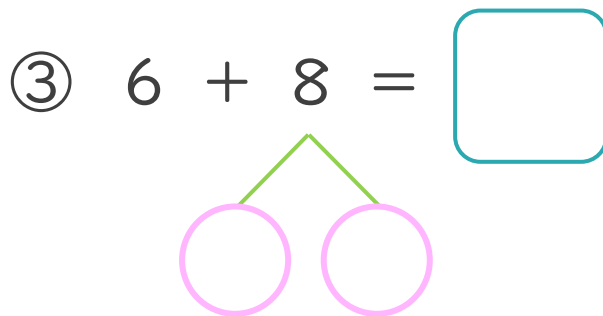
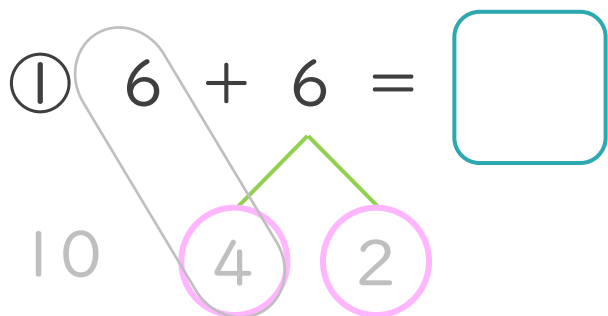
名まえ _____


< 6 + 6 のけいさんのしかた > (うすいじはなぞりましょう。)



- ① 6を
4と2に
わけます。
- ② 6に4を
たして10。
- ③ 10と2で12。

・ けいさんをしましょう。(うすいじはなぞりましょう。)





くりあがりのある
たしざん 5

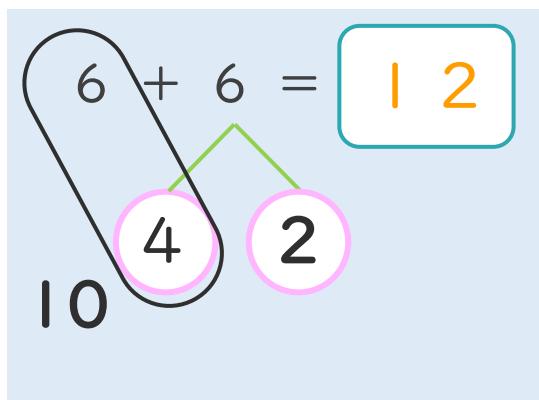
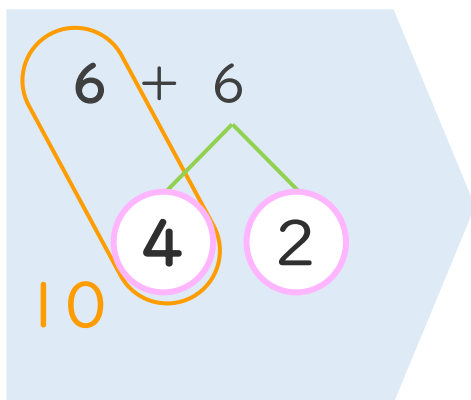
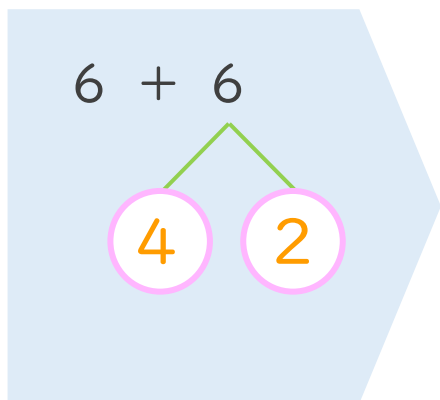
● くりあがりのけいさん
(6や5とたす)



日にち： 月 日

名まえ _____

< 6 + 6 のけいさんのしかた > (うすいじはなぞりましょう。)



- ① 6を
4と2に
わけます。
- ② 6に4を
たして10。
- ③ 10と2で12。

・ けいさんをしましょう。(うすいじはなぞりましょう。)

