



くりあがりのある  
たしざん 4

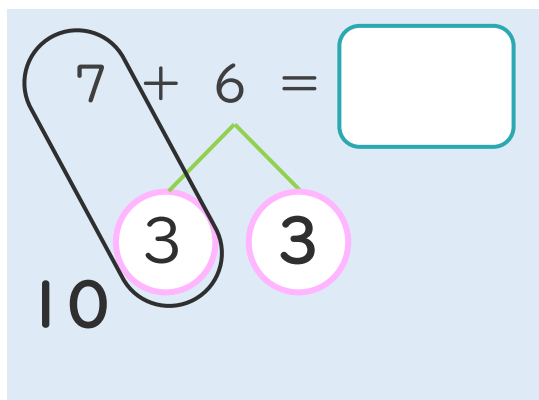
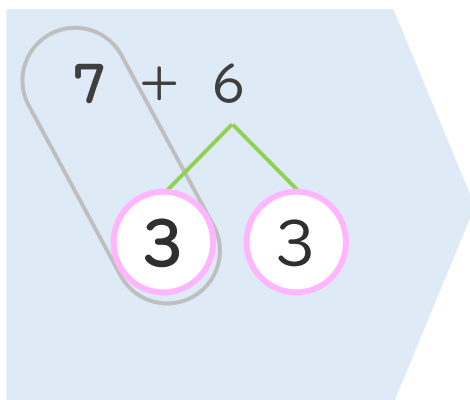
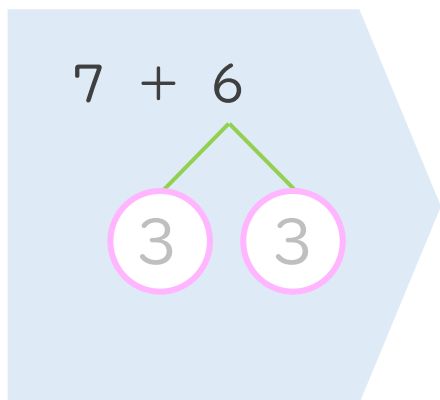
● くりあがりのけいさん  
(7とたす)



日にち： 月 日

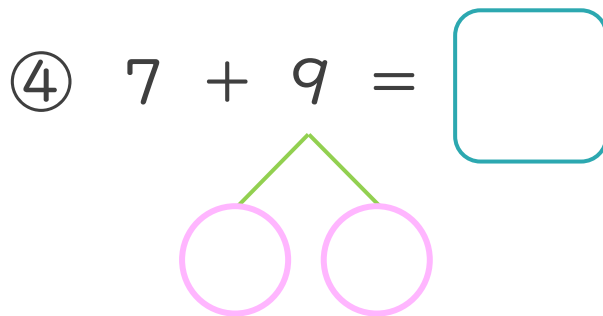
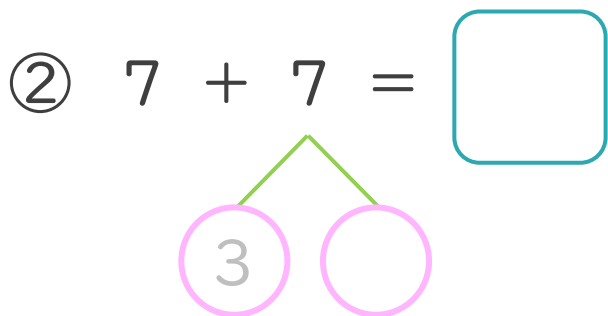
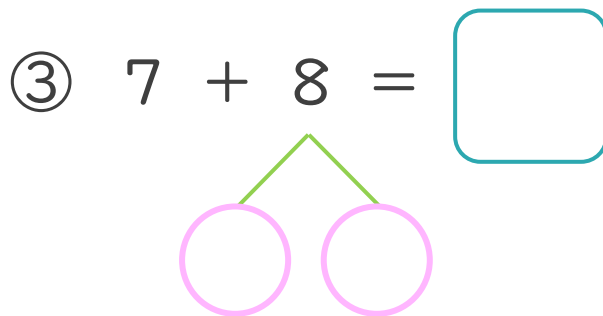
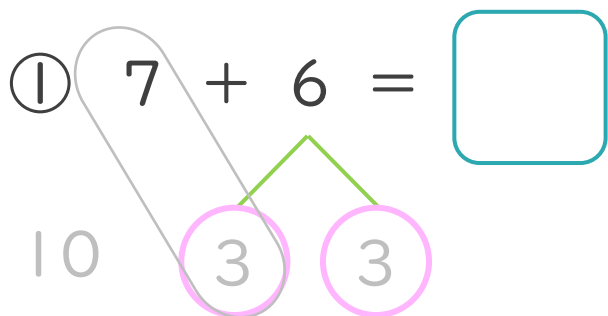
名まえ \_\_\_\_\_

< 7 + 6 のけいさんのしかた > (うすいじはなぞりましょう。)



- ① 6を  
3と3に  
わけます。
- ② 7に3を  
たして10。
- ③ 10と3で13。

・ けいさんをしましょう。(うすいじはなぞりましょう。)





くりあがりのある  
たしざん 4

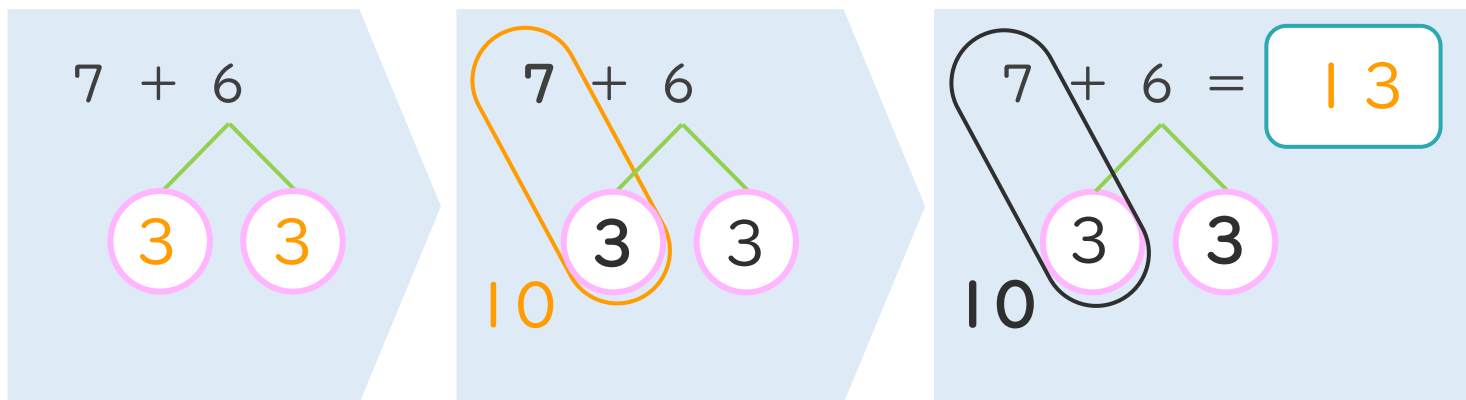
● くりあがりのけいさん  
(7とたす)



日にち： 月 日

名まえ \_\_\_\_\_

< 7 + 6 のけいさんのしかた > (うすいじはなぞりましょう。)



- ① 6を  
3と3に  
わけます。
- ② 7に3を  
たして10。
- ③ 10と3で13。

・ けいさんをしましょう。(うすいじはなぞりましょう。)

①  $7 + 6 = 13$

③  $7 + 8 = 15$

②  $7 + 7 = 14$

④  $7 + 9 = 16$

