



くりさがりのある
ひきざん 6

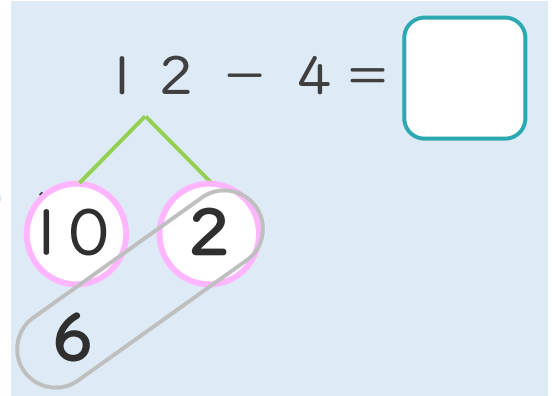
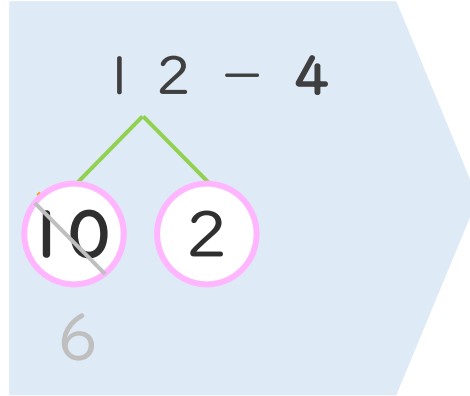
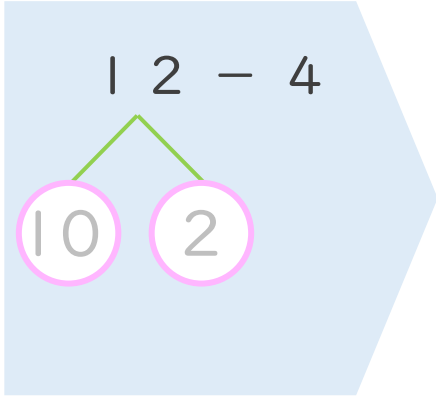
● くりさがりのけいさん
(4や3をひく)



日にち： 月 日

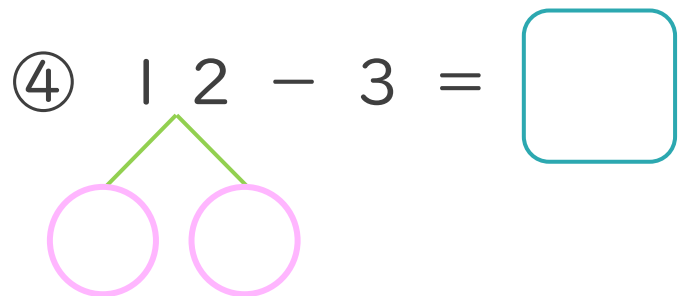
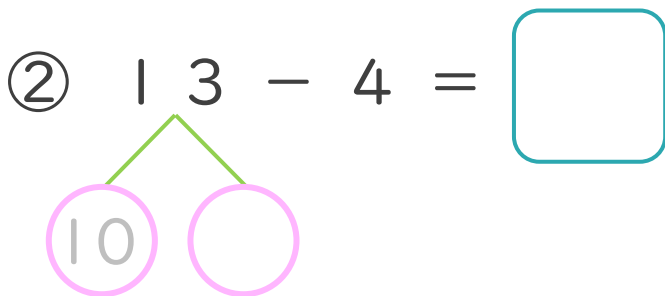
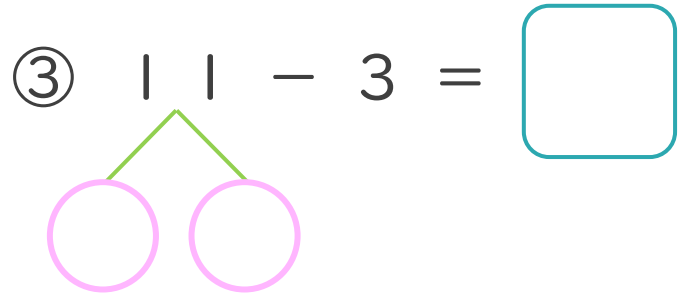
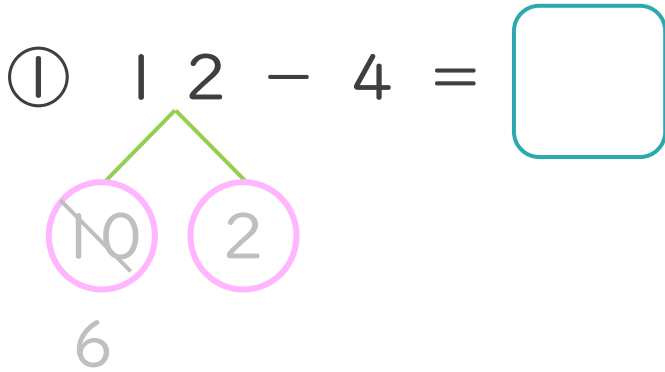
名まえ _____

< 12 - 4 の けいさんの しかた > (うすいじはなぞりましょう。)



- ① 12を
10と2に
わけます。
- ② 10から4を
ひいて6。
- ③ 6と2で8。

・ けいさんを しましょう。 (うすいじはなぞりましょう。)





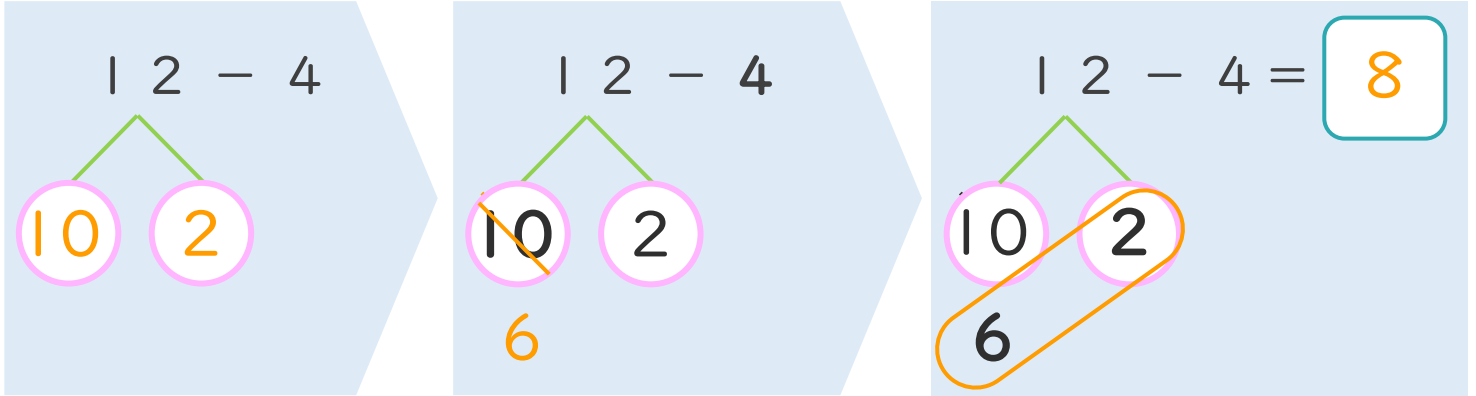
くりさがりのある
ひきざん 6
● くりさがりのけいさん
(4や3をひく)



日にち： 月 日

名まえ _____

< 12 - 4 の けいさんの しかた > (うすいじはなぞりましょう。)



- ① 12を
10と2に
わけます。
- ② 10から4を
ひいて6。
- ③ 6と2で8。

・ けいさんを しましょう。 (うすいじはなぞりましょう。)

<p>① 1 2 - 4 = 8</p>	<p>③ 1 1 - 3 = 8</p>
<p>② 1 3 - 4 = 9</p>	<p>④ 1 2 - 3 = 9</p>