



くりさがりのある
ひきざん 5

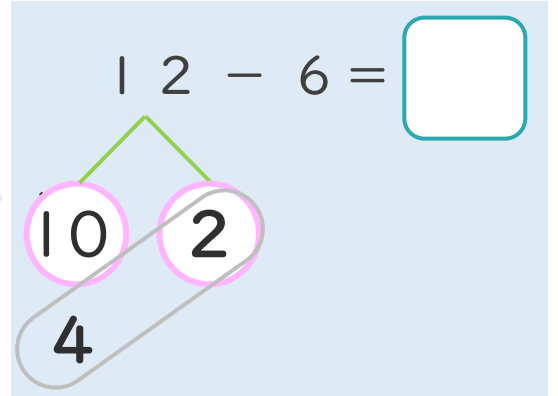
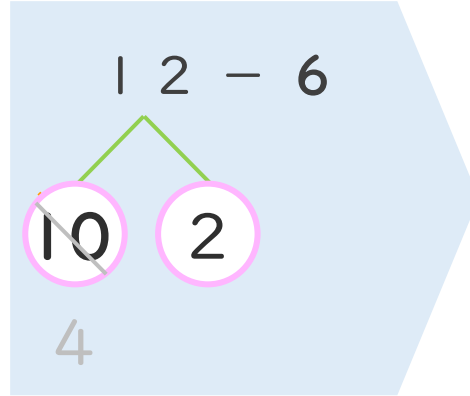
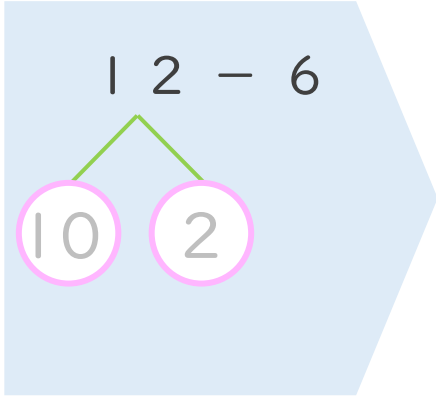
● くりさがりのけいさん
(6や5をひく)



日にち： 月 日

名まえ _____

< 12 - 6 の けいさんの しかた > (うすいじはなぞりましょう。)

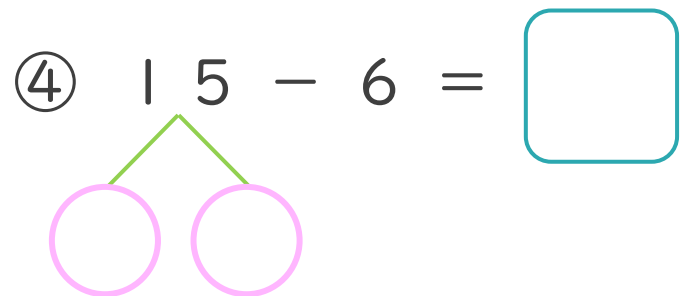
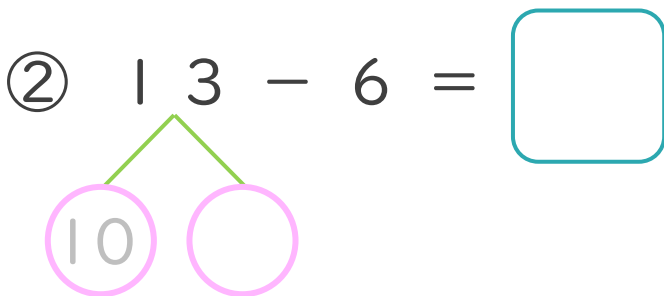
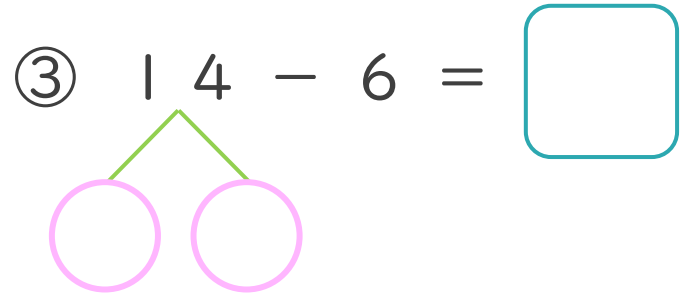
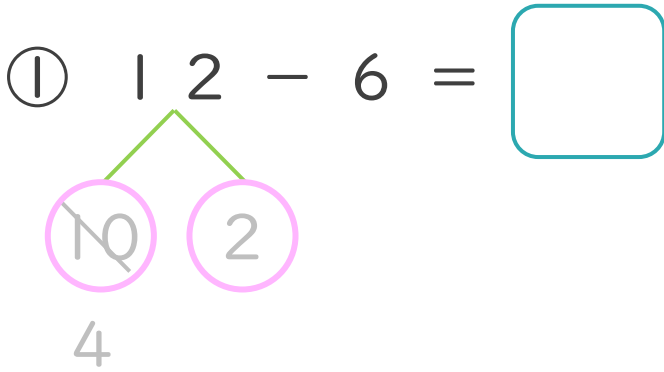


① 12を
10と2に
わけます。

② 10から6を
ひいて4。

③ 4と2で6。

・ けいさんを しましょう。(うすいじはなぞりましょう。)





くりさがりのある
ひきざん 5

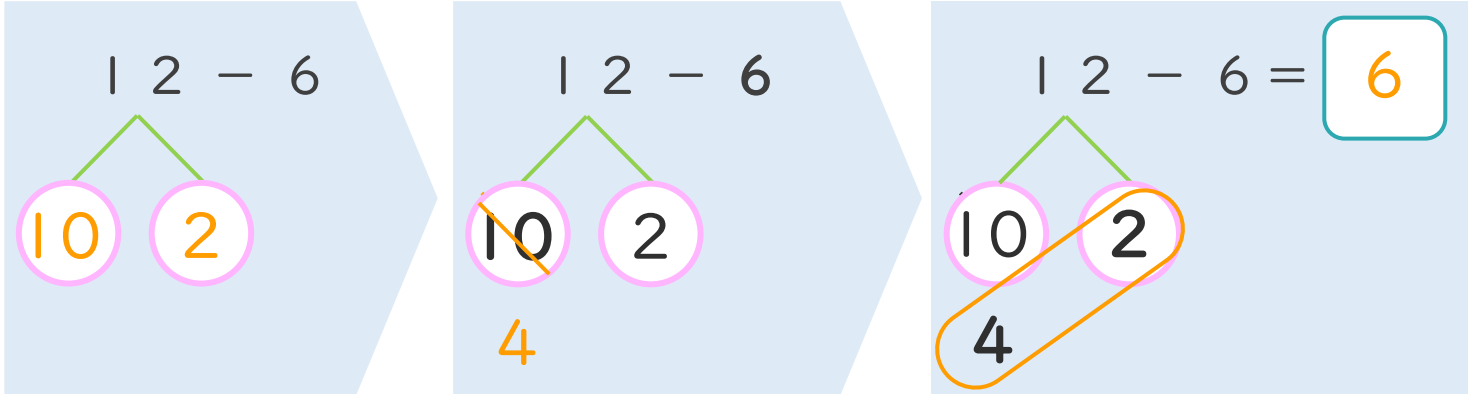
● くりさがりのけいさん
(6や5をひく)



日にち： 月 日

名まえ _____

< 12 - 6 の けいさんの しかた > (うすいじはなぞりましょう。)



- ① 12を
10と2に
わけます。
- ② 10から6を
ひいて4。
- ③ 4と2で6。

・ けいさんを しましょう。(うすいじはなぞりましょう。)

<p>① 1 2 - 6 = 6</p>	<p>③ 1 4 - 6 = 8</p>
<p>② 1 3 - 6 = 7</p>	<p>④ 1 5 - 6 = 9</p>

