



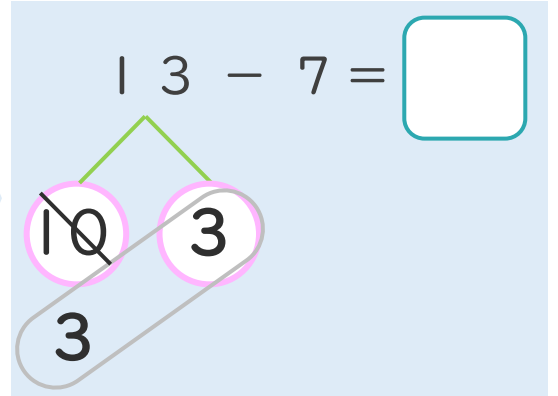
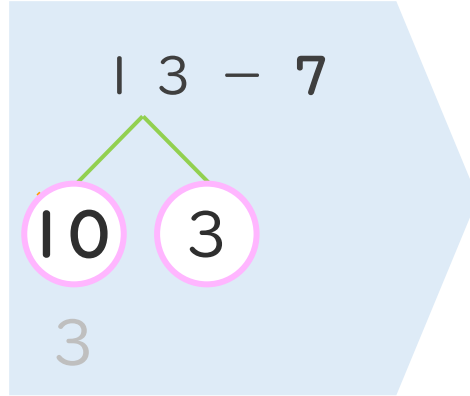
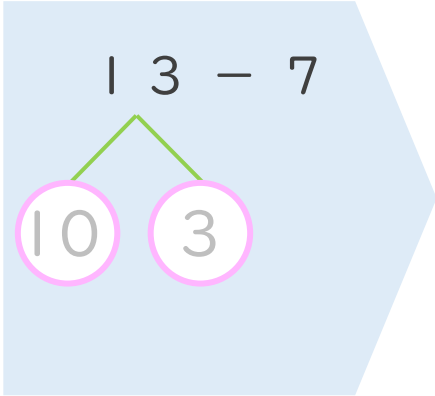
くりさがりのある
ひきざん 4
● くりさがりのけいさん
(7をひく)



日にち： 月 日

名まえ _____

< 13 - 7 の けいさんの しかた > (うすいじはなぞりましょう。)

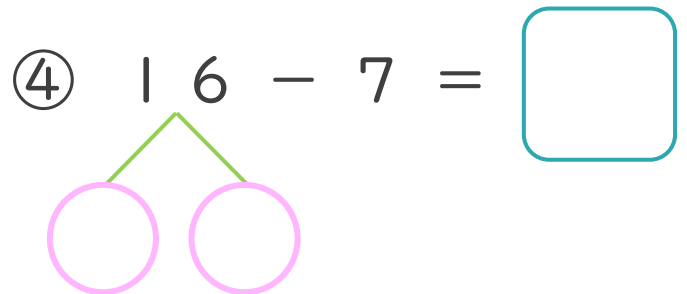
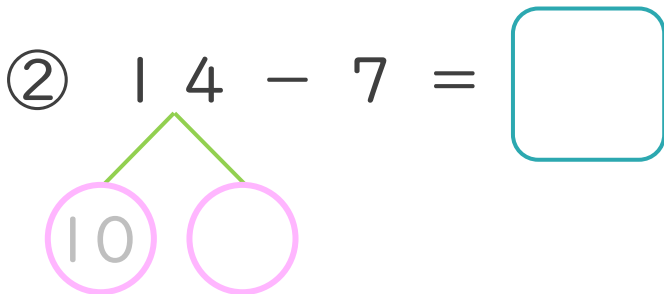
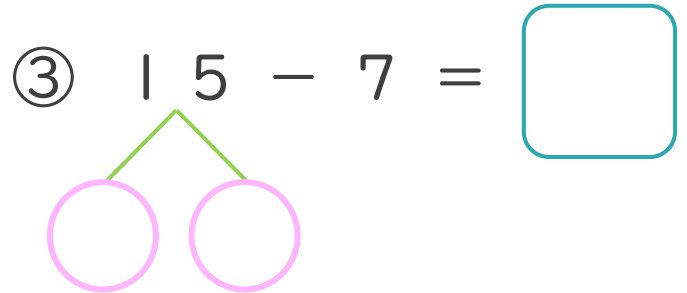
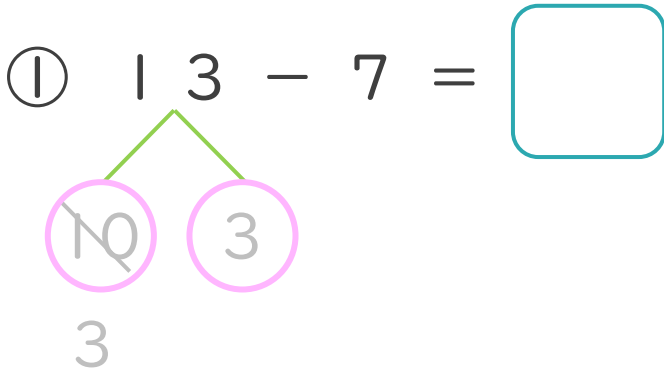


① 13を
10と3に
わけます。

② 10から7を
ひいて3。

③ 3と3で6。

・ けいさんを しましょう。(うすいじはなぞりましょう。)





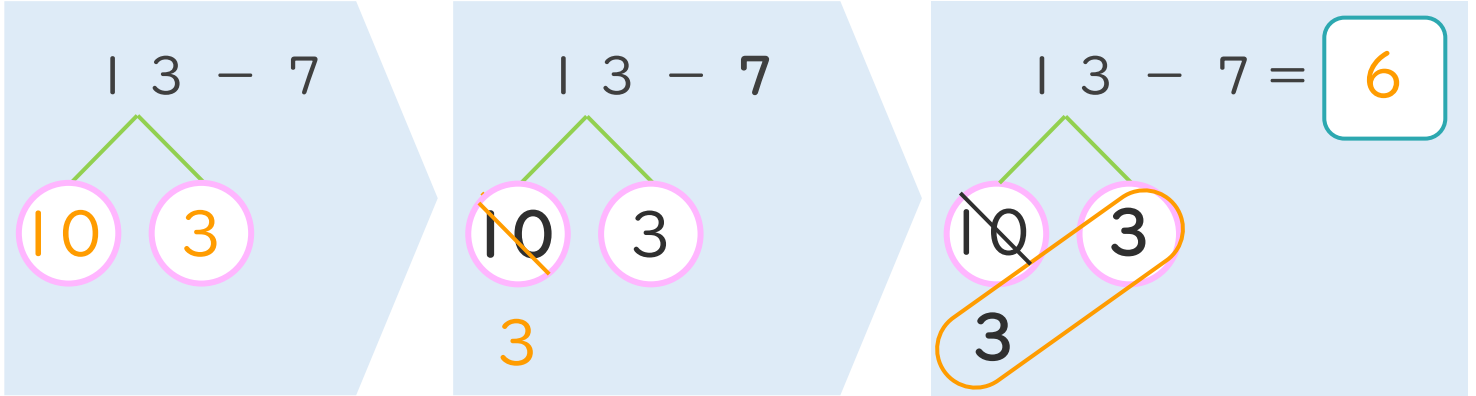
くりさがりのある
ひきざん 4
くりさがりのけいさん
(7をひく)



日にち： 月 日

名まえ _____

< 13 - 7 のけいさんのしかた > (うすいじはなぞりましょう。)



- ① 13を
10と3に
わけます。
- ② 10から7を
ひいて3。
- ③ 3と3で6。

・ けいさんをしましょう。(うすいじはなぞりましょう。)

① $13 - 7 = 6$

③ $15 - 7 = 8$

② $14 - 7 = 7$

④ $16 - 7 = 9$

