



くりあがりのある
たしざん 10

● けいさんのしかたを
かんがえよう

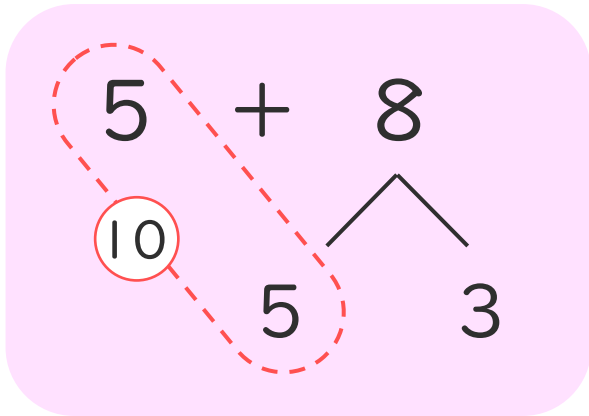


日にち： 月 日

名まえ _____

- 5 + 8 のけいさんのしかたをかんがえます。

にあうかずをかきましょう。(うすいじはなぞりましょう。)



① 5はあと で10。

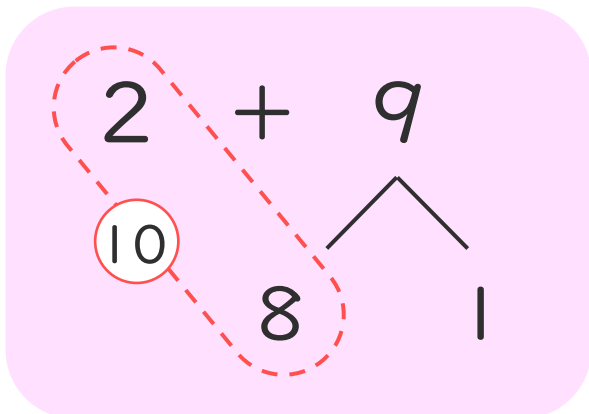
② 8を と3にわける。

③ 5に をたして10。

④ 10と で13。

- 2 + 9 のけいさんのしかたをかんがえます。

にあうかずをかきましょう。



① 2はあと で10。

② 9を と1にわける。

③ 2に をたして10。

④ 10と で11。





くりあがりのある
たしざん 10

● けいさんのしかたを
かんがえよう

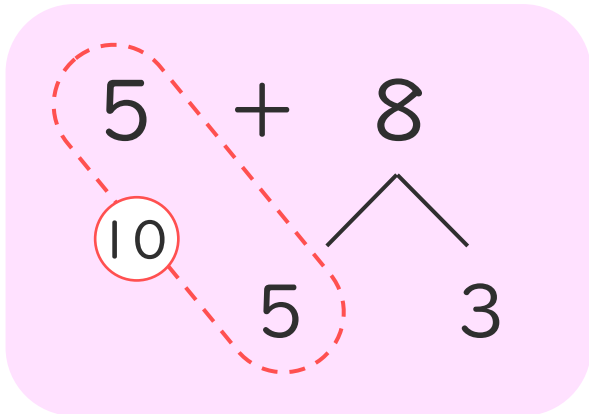


日にち： 月 日

名まえ _____

- 5 + 8 のけいさんのしかたをかんがえます。

□にあうかずをかきましょう。(うすいじはなぞりましょう。)



① 5はあと で10。

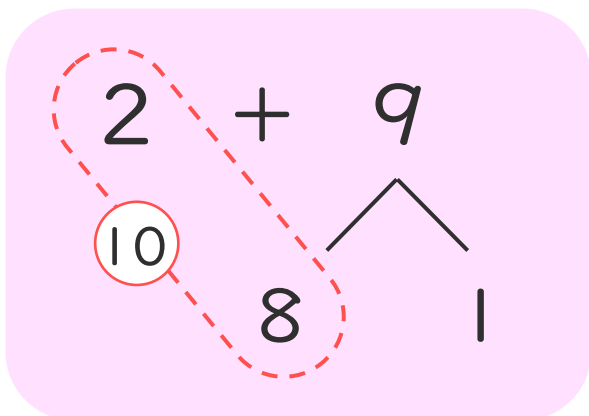
② 8を と3にわける。

③ 5に をたして10。

④ 10と で13。

- 2 + 9 のけいさんのしかたをかんがえます。

□にあうかずをかきましょう。



① 2はあと で10。

② 9を と1にわける。

③ 2に をたして10。

④ 10と で11。

