



あわせていくつ3

◎ たしざんのしきをつくろう



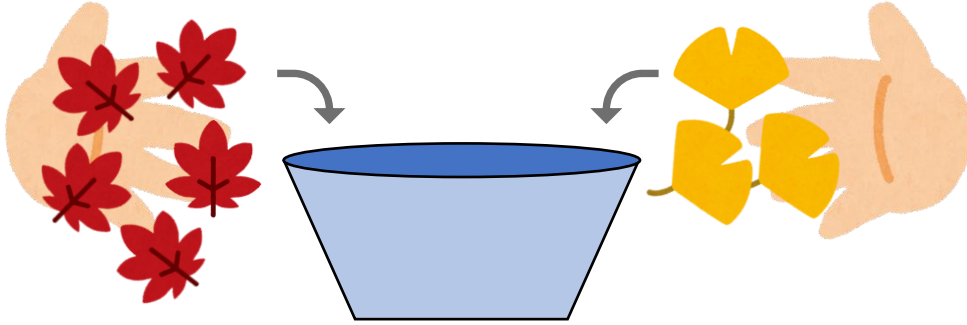
日にち： 月 日

名まえ _____

・ しきにかいて こたえましょう。(うすいじはなぞりましょう。)

① おちばを 5まいと 3まいいれます。

あわせてなんまいになりますか。



しき

5	+		=	
---	---	--	---	--


こたえ

--	--

まい

② しろいうさぎが 3びき、くろいうさぎが 2ひきいます。

うさぎはぜんぶでなんびきいますか。



しき

	+			
--	---	--	--	--

こたえ

--	--

ひき





あわせていくつ3

◎ たしざんのしきをつくろう



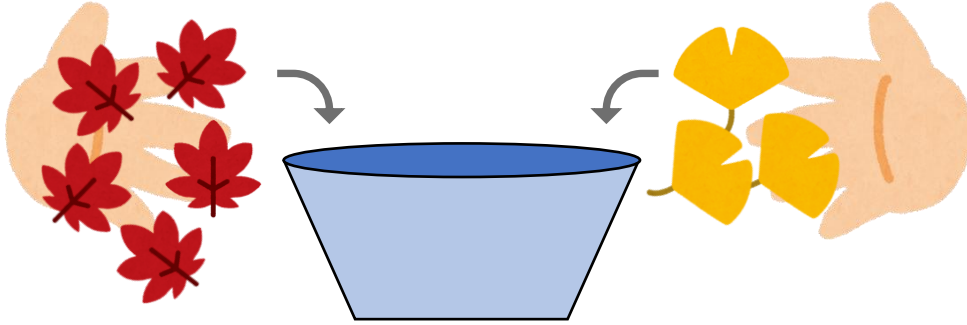
日にち： 月 日

名まえ _____

・ しきにかいて こたえましょう。(うすいじはなぞりましょう。)

① おちばを 5まいと 3まいいれます。

あわせてなんまいになりますか。




しき $5 + 3 = 8$

こたえ 8 まい

② しろいうさぎが 3びき、くろいうさぎが 2ひきいます。

うさぎはぜんぶでなんびきいますか。



しき $3 + 2 = 5$

こたえ 5 ひき

