



# 3つの かずのけいさん 3

たしざんとひきざんの  
まざったしき

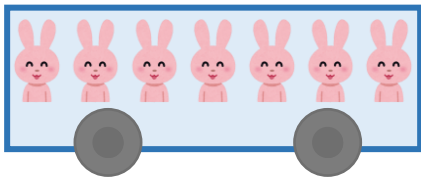


日にち： 月 日

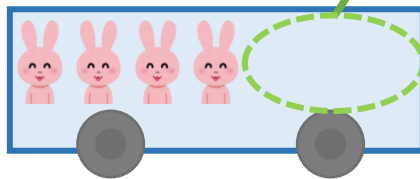
名まえ \_\_\_\_\_

うさぎは、なんびきになりましたか。

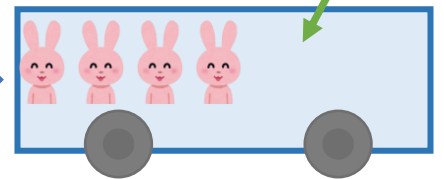
7ひきのっています。



3びきおりました。




2ひきのりました。



☆1つのしきにあらわしてみましよう。

しき：  $7 - \square + \square = \square$



こたえ：  ひき



# 3つの かずのけいさん 3

たしざんとひきざんの  
まざったしき



日にち： 月 日

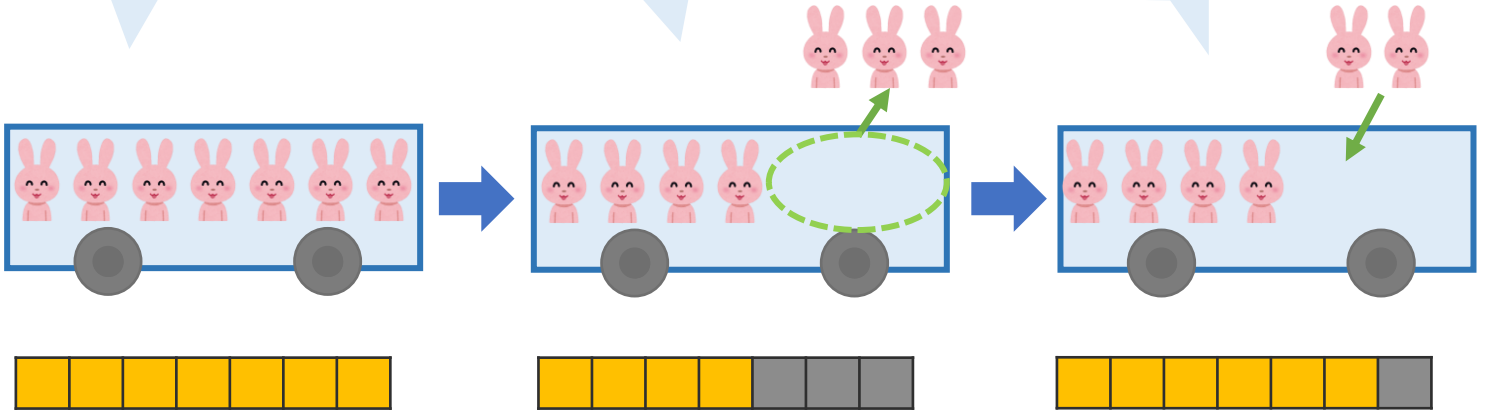
名まえ \_\_\_\_\_

うさぎは、なんびきになりましたか。

7ひきのっています。

3びきおりました。

2ひきのりました。



☆1つのしきにあらわしてみましよう。

しき：  $7 - 3 + 2 = 6$

4

こたえ： 6 ひき

