



のこりはいくつ 5

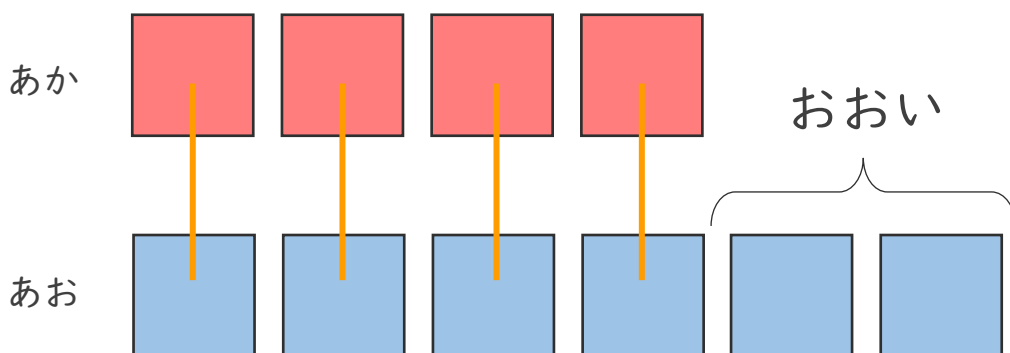
ちがいはいくつ?
(きゅうさ)






日にち： 月 日

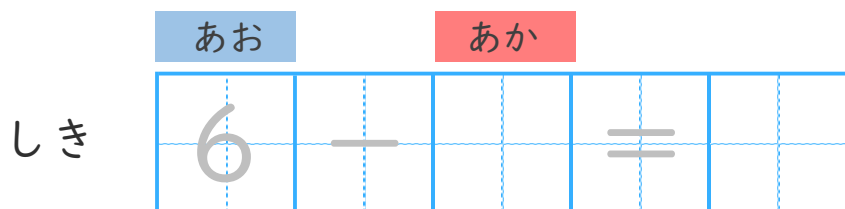
名まえ _____


- あかのおりがみが4まいあります。
- あおのおりがみが6まいあります。
- あおのおりがみは、あかのおりがみよりなんまい
おおいでしょうか。(うすいじはなぞりましょう。)



 うえの  としたの  を
せんでおすんでみよう。

ちがいをとめるときも
ひきざんをつかうよ!



こたえ  まい





のこりはいくつ？

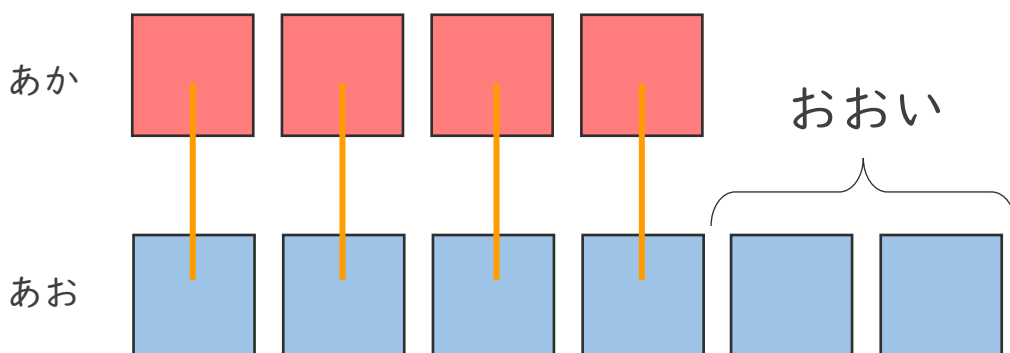
ちがいはいくつ？
(きゅうさ)






日にち： 月 日

名まえ _____

- あかのおりがみが4まいあります。
- あおのおりがみが6まいあります。
- あおのおりがみは、あかのおりがみよりなんまい
おおいでしょうか。(うすいじはなぞりましょう。)



 うえの  としたの  を
せんでおすんでみよう。

ちがいをとめるときも
ひきざんをつかうよ！



あお あか

しき

6	-	4	=	2
---	---	---	---	---

こたえ  まい

