



のこりはいくつ 6

3

◎ どちらがいくつ おおい？

日にち： 月 日


名まえ \_\_\_\_\_

・ あかいはなが 6ぼん さきました。

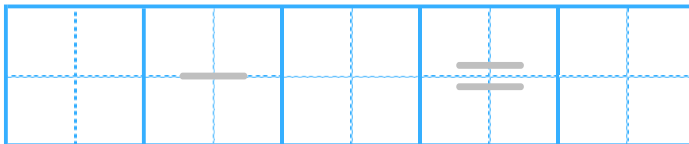
しろいはなが 9ぼん さきました。

どちらが なんぼん おおいでしょうか。

(うすいじはなぞりましょう。)



しき



こたえかたに

ちゅういしよう！



▼どちらが

こたえ


はなが


ぼん おおい。





のこりはいくつ 6

3

● どちらがいくつ おおい?

日にち： 月 日


名まえ \_\_\_\_\_

・ あかいはなが 6ぼん さきました。

しろいはなが 9ぼん さきました。

どちらが なんぼん おおい でしょうか。

(うすいじは なぞり ましょう。)



しき

$$9 - 6 = 3$$

こたえかたに

ちゅうい しよう!



▼どちらが

こたえ

し ろ い

はなが

3

ぼん おおい。

