



のこりはいくつ 6

3

◎ どちらがいくつ おおい?

日にち： 月 日


名まえ _____

・ あかいはなが 6 ぽん さきました。

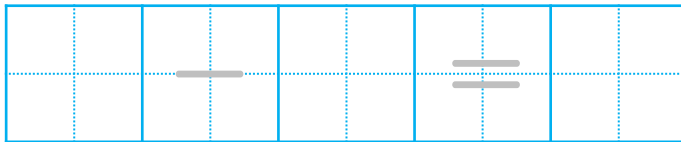
しろいはなが 9 ぽん さきました。

どちらが なんぽん おおい でしょうか。

(うすいじは なぞり ましょう。)



しき



こたえかたに

ちゅうい しよう!



▼どちらが

こたえ

			い	

はなが

ぽん おおい。





のこりはいくつ 6

3

● どちらがいくつ おおい？

日にち： 月 日


名まえ _____

・ あかいはなが 6 ぽん さきました。

しろいはなが 9 ぽん さきました。

どちらが なんぽん おおい でしょうか。

(うすいじは なぞり ましょう。)



しき

$$9 - 6 = 3$$

こたえかたに

ちゅうい しよう！



▼どちらが

こたえ

し ろ い

はなが

3

ぽん おおい。

