



のこりはいくつ 3

◎ のこりはいくつ?
(きゅうざん)




日にち： 月 日

名まえ _____

・ しきにかいて こたえましょう。(うすいじはなぞりましょう。)

① えんぴつが 8 ぽん あります。 2 ほん あげました。
のこりは なんぽん になりましたか。




しき

		—			==		

こたえ

ぽん

② ふうせんが 6 こ あります。 1 こ とんでいきました。
のこりは なんこ になりましたか。



しき

		—			==		

こたえ

こ





のこりはいくつ 3

◎ のこりはいくつ?
(きゅうざん)




日にち： 月 日

名まえ _____

・ しきにかいて こたえましょう。(うすいじはなぞりましょう。)


- ① えんぴつが 8 ぽん あります。 2 ほん あげました。
のこりは なんぽん になりましたか。



しき $8 - 2 = 6$

こたえ 6 ぽん

- ② ふうせんが 6 こ あります。 1 ことんでいきました。
のこりは なんこ になりましたか。



しき $6 - 1 = 5$

こたえ 5 こ

