



のこりはいくつ 4

● のこりはいくつ?  
(きゅうほ)



日にち： 月 日

名まえ \_\_\_\_\_

・ うさぎが 10ぴき います。



は 6ぴきです。



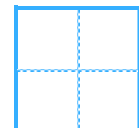
は なんびき いますか。

(うすいじはなぞりましょう。)

10ぴき

しき

こたえ



ひき





のこりはいくつ 4

● のこりはいくつ?  
(きゅうほ)



日にち：            月            日

名まえ \_\_\_\_\_

・ うさぎが 10ぴき います。



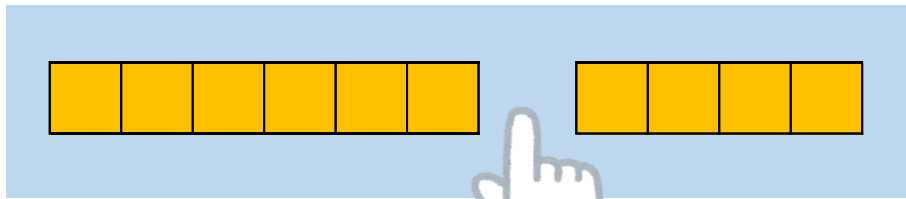

は 6ぴきです。



は なんびき いますか。

(うすいじはなぞりましょう。)

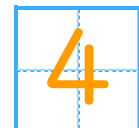
10ぴき



しき

$$10 - 6 = 4$$

こたえ



ひき

