



# のこりはいくつ 2

しきをつくろう




日にち： 月 日

名まえ \_\_\_\_\_

- はなが 7ほん あります。2ほん あげました。

のこりは なんほん になりましたか。(うすいじはなぞりましょう。)



ひく

は

しき

7	—		=				
---	---	--	---	--	--	--	--

れんしゅうしよう!

1 →							
-----	--	--	--	--	--	--	--

1 →							
2 →							

こたえ

--	--

ほん





のこりはいくつ 2

しきをつくろう




日にち： 月 日

名まえ \_\_\_\_\_

- はなが 7ほん あります。2ほん あげました。

のこりは なんぼん になりましたか。(うすいじはなぞりましょう。)



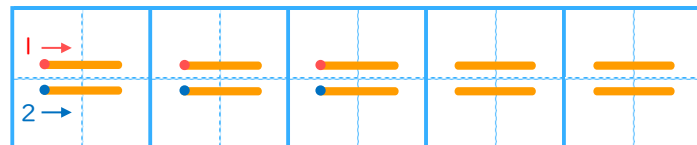
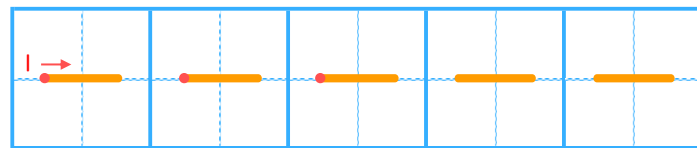
ひく

は

しき

7	-	2	=	5
---	---	---	---	---

れんしゅうしよう!



こたえ



ほん

