



のこりはいくつ 2

しきをつくろう




日にち： 月 日

名まえ _____

- はなが 7ほん あります。2ほん あげました。

のこりは なんほん になりましたか。(うすいじはなぞりましょう。)



しき

		ひく			は		
7	—				=		

れんしゅうしよう!

1 →							
-----	--	--	--	--	--	--	--

こたえ

--	--

 ほん

1 →							
2 →							



のこりはいくつ 2

しきをつくろう




日にち： 月 日

名まえ _____

- はなが 7ほん あります。2ほん あげました。

のこりは なんほん になりましたか。(うすいじはなぞりましょう。)

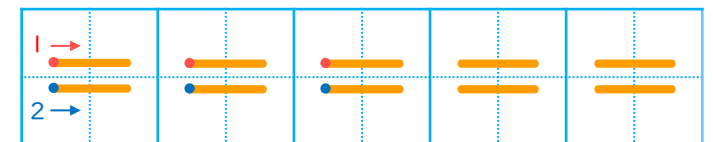
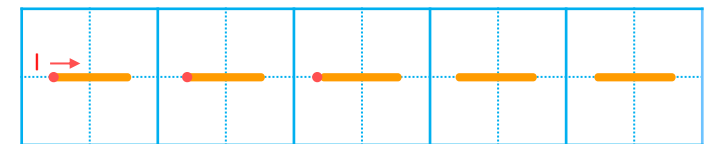


しき

	ひく		は	
7	—	2	=	5

こたえ 5 ほん

▼ れんしゅう しよう!



すらすらぷりんと