



たしざんと
ひきざん 5


● みかんのあめはなんこ？
(きゅうだい)



日にち： 月 日

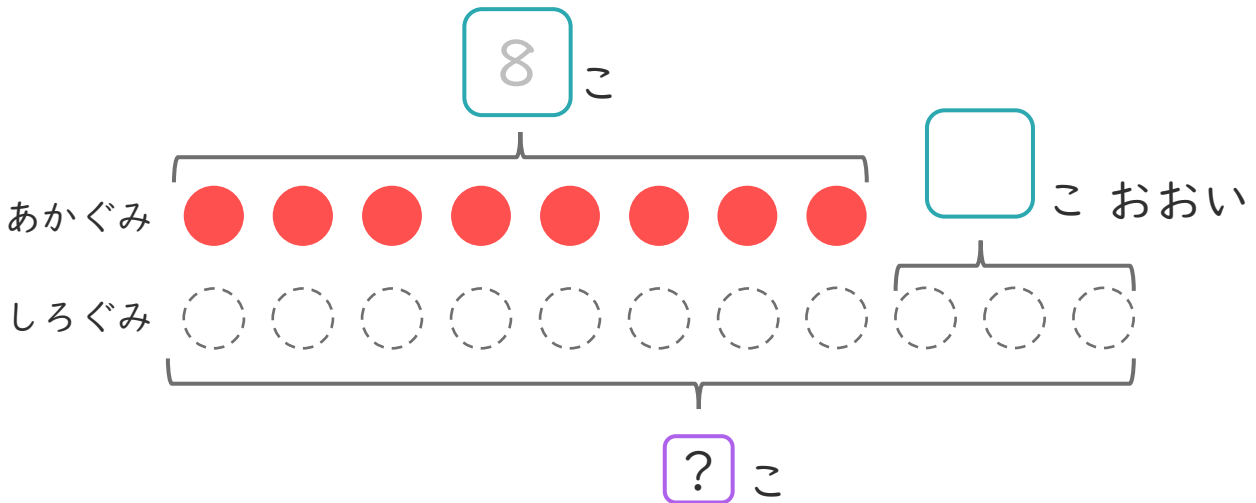
名まえ _____

- ・ たまいれをしました。あかぐみは、8こはいりました。
しろぐみは、あかぐみより3こおいそです。
(うすいじはなぞりましょう。)



① □にあうかずをかきましょう。

また、しろぐみのかずだけ○にいろをぬりましょう。



- ② しろぐみは、なんこはいりましたか。
しきとこたえをかきましょう。

しき： □ + □ = □

こたえ (こ)



たしざんと
ひきざん 5


● みかんのあめはなんこ？
(きゅうだい)



日にち： 月 日

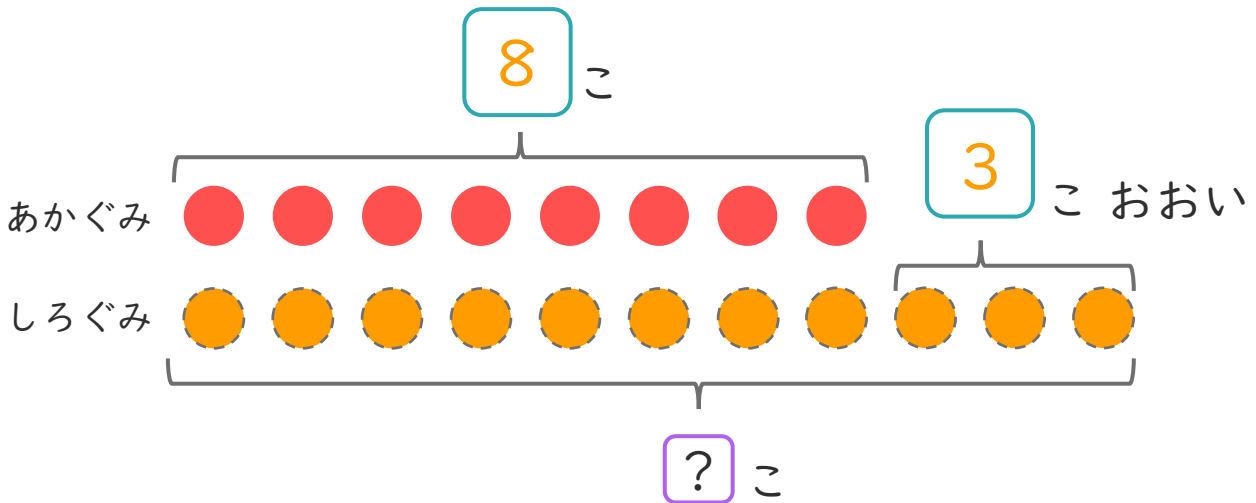
名まえ _____

- ・ たまいれをしました。あかぐみは、8こはいりました。しろぐみは、あかぐみより3こおいそうです。(うすいじはなぞりましょう。)



① □にあうかずをかきましょう。

また、しろぐみのかずだけ○にいろをぬりましょう。



- ② しろぐみは、なんこはいりましたか。しきとこたえをかきましょう。

しき： $8 + 3 = 11$

こたえ (11 こ)

