




### どちらがおおい③

● コップでなんばいはいりますか？




日にち： 月 日

名まえ \_\_\_\_\_

・ みずが  のかずだけはいります。(うすいじはなぞりましょう。)


① あ




② い



③ う



①  でなんばいはいりますか。

① あ...  はい ② い...  はい ③ う...  はい

② ①と②では、どちらがどれだけおおくはいりますか。

のほうが、 で  はいぶん おおくはいる。

③ ①と③では、どちらがどれだけおおくはいりますか。

のほうが、 で  はいぶん おおくはいる。






### どちらがおおい③

● コップでなんばい  
はいりますか？




日にち：        月        日

名まえ \_\_\_\_\_

・ みずが  のかずだけはいります。(うすいじはなぞりましょう。)


① あ




① い



① う



①  でなんばいはいりますか。

① あ... **2** はい    ① い... **9** はい    ① う... **4** はい

② ① あと① いでは、どちらがどれだけおおくはいりますか。

**① い**のほうが、 で **7** はいぶんおおくはいる。

③ ① あと① うでは、どちらがどれだけおおくはいりますか。

**① う**のほうが、 で **2** はいぶんおおくはいる。

