



おおきいかず 14

十のたばのたしざん

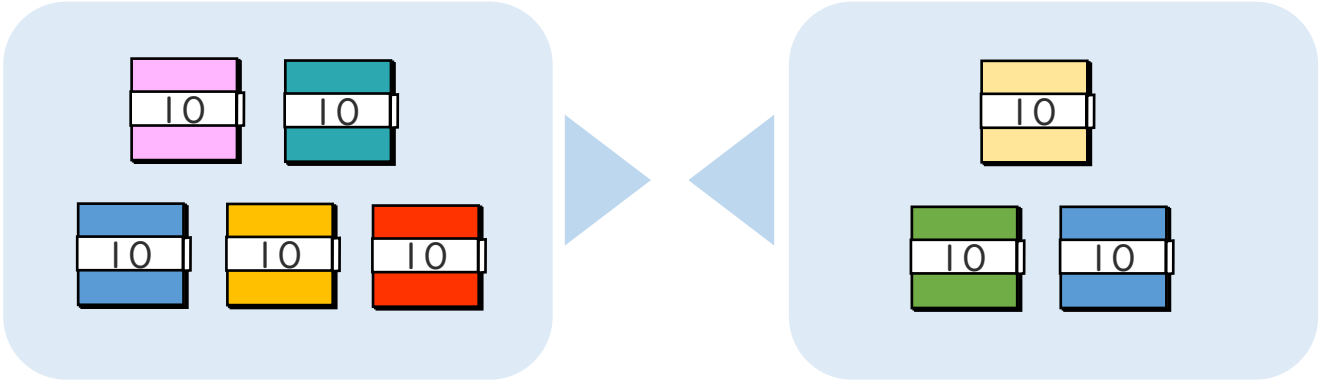


日にち： 月 日

名まえ _____

・ □ にかずをかきましょう。(うすいじはなぞりましょう。)

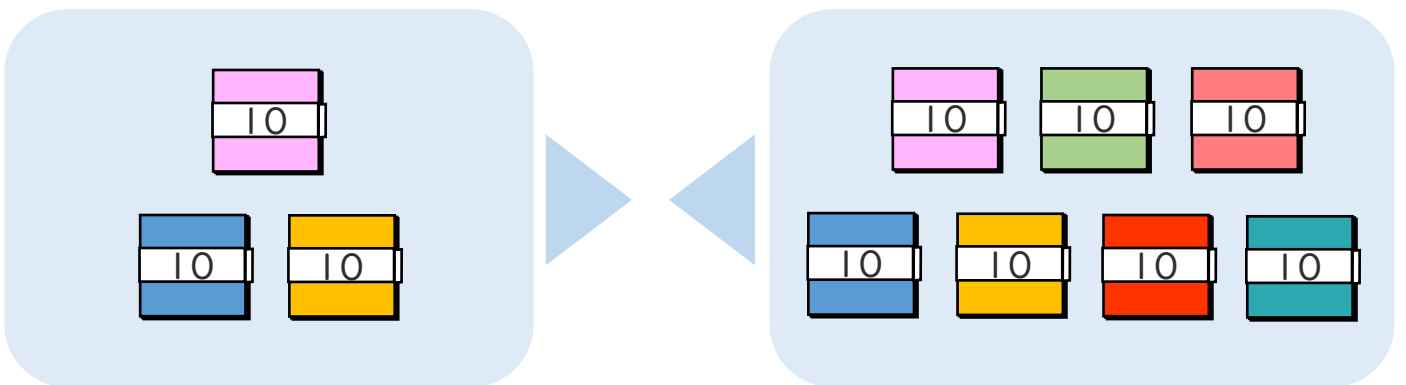
① 50+30の こたえはいくつですか。



10のたばが $5 + 3 = \square$ で \square こだから

$$50 + 30 = \square$$

② 30+70の こたえはいくつですか。



10のたばが $3 + \square = \square$ で \square こだから

$$30 + 70 = \square$$





おおきいかず 14

十のたばのたしざん

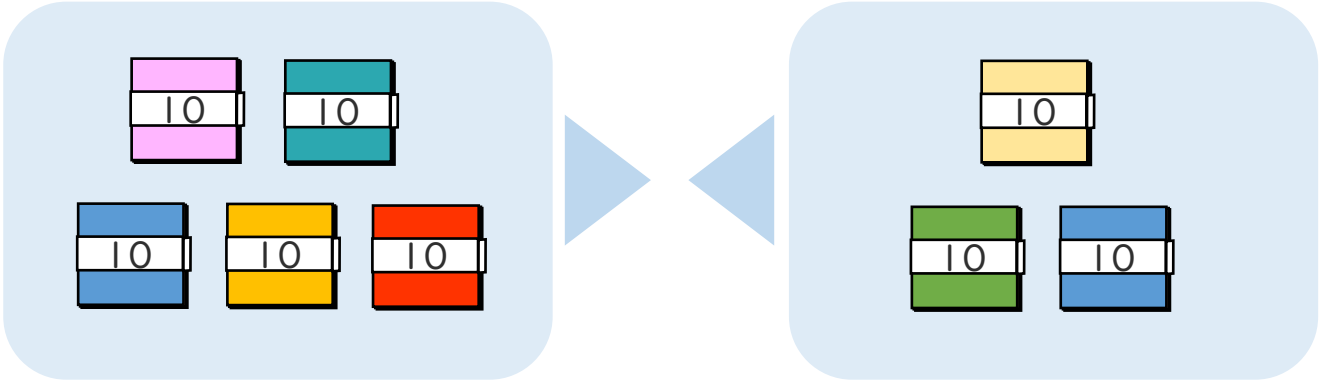


日にち： 月 日

名まえ _____

・ □ にかずをかきましょう。(うすいじはなぞりましょう。)

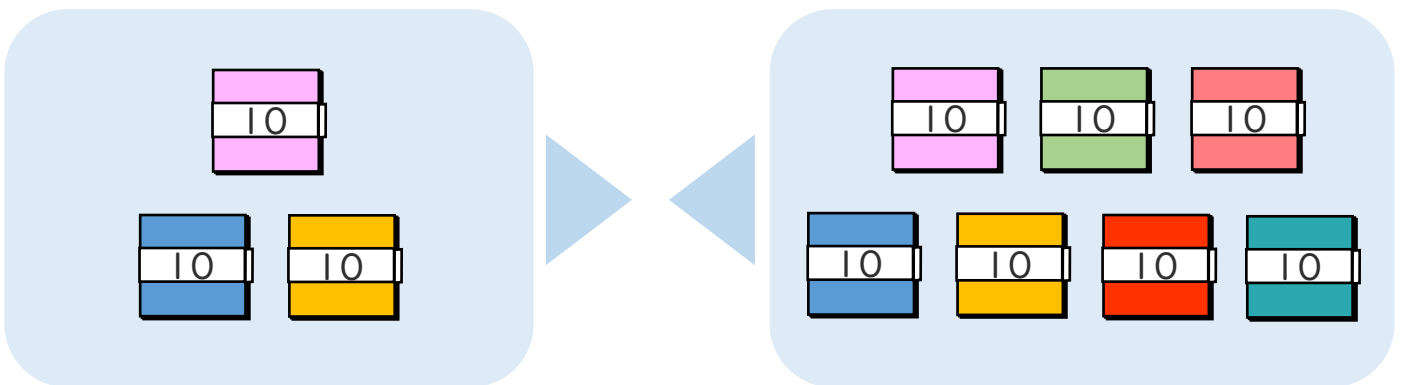
① $50 + 30$ の こたえは いくつですか。



10のたばが $5 + 3 = 8$ で 8 こだから

$$50 + 30 = 80$$

② $30 + 70$ の こたえは いくつですか。



10のたばが $3 + 7 = 10$ で 10 こだから

$$30 + 70 = 100$$

