



おおきいかず 17

十のたばのひきざん

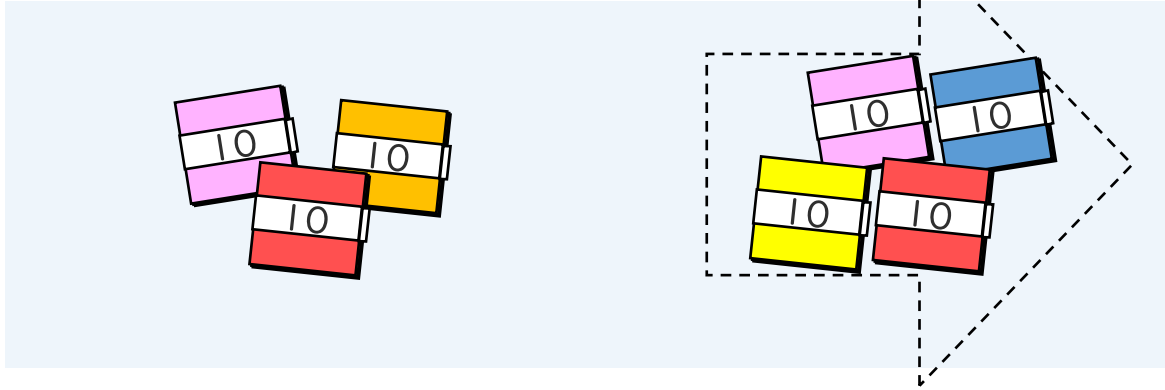


日にち： 月 日

名まえ _____

・ □ にかずをかきましょう。(うすいじはなぞりましょう。)

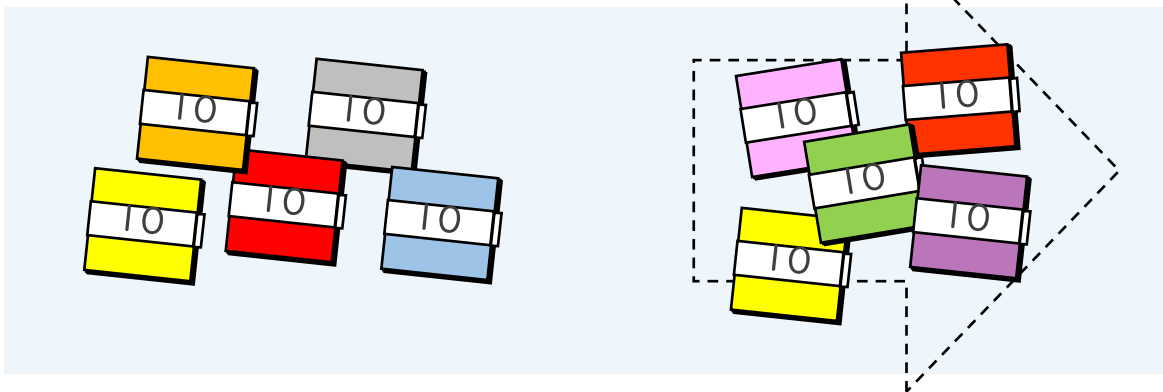
① $70 - 40$ のこたえはいくつですか。



10のたばが $7 - 4 = \square$ で \square こだから

$$70 - 40 = \square$$

② $100 - 50$ のこたえはいくつですか。



10のたばが $10 - \square = \square$ で \square こだから

$$100 - 50 = \square$$





おおきいかず 17

十のたばのひきざん

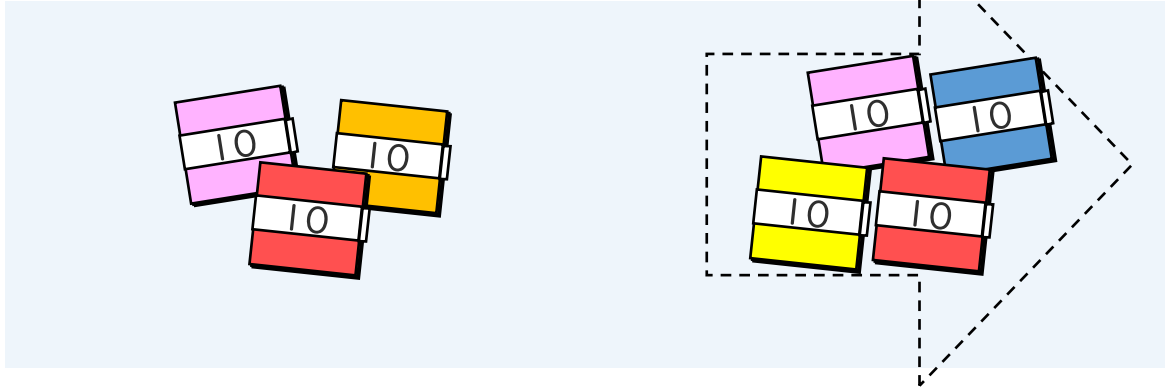


日にち： 月 日

名まえ _____

・ □ にかずをかきましょう。(うすいじはなぞりましょう。)

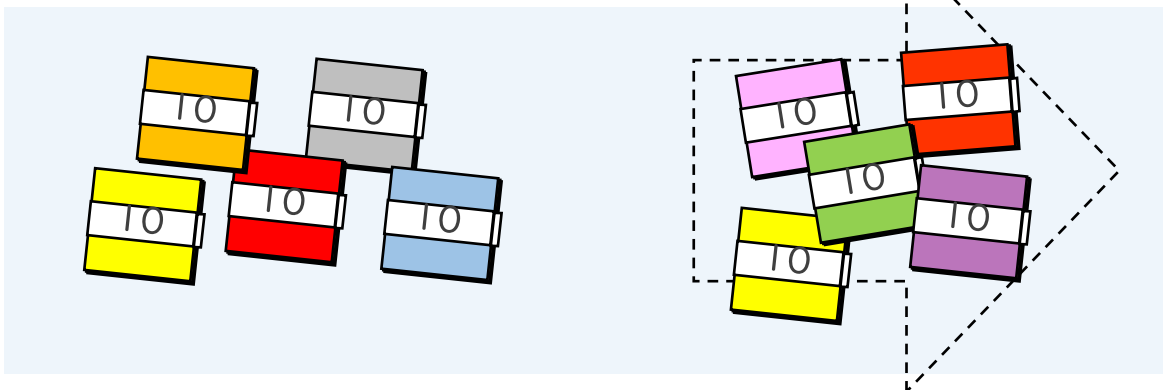
① $70 - 40$ のこたえはいくつですか。



10のたばが $7 - 4 = 3$ で 3 こだから

$$70 - 40 = 30$$

② $100 - 50$ のこたえはいくつですか。



10のたばが $10 - 5 = 5$ で 5 こだから

$$100 - 50 = 50$$

