



くりあがりのある  
たしざん ⑧


● えとぶんしょうから  
しきをつくろう




日にち：            月            日

名まえ \_\_\_\_\_

1 えんぴつは あわせて なんぼん ですか。しきをかきましょう。  
(うすいじは なぞりましょう。)




6 ぼん




9 ぼん

しき：  +  =

2 とまとは あわせて なんこ ですか。しきをかきましょう。



8 こ



5 こ

しき：  +  =





くりあがりのある  
たしざん ⑧


● えとぶんしょうから  
しきをつくろう




日にち：            月            日

名まえ \_\_\_\_\_

1 えんぴつは あわせて なんぼん ですか。しきをかきましょう。  
(うすいじはなぞりましょう。)




6 ぼん




9 ぼん

しき：  $\boxed{6} + \boxed{9} = \boxed{15}$

2 とまとは あわせて なんこ ですか。しきをかきましょう。



8 こ



5 こ

しき：  $\boxed{8} + \boxed{5} = \boxed{13}$

