



あわせていくつ8

● 0のたしざん



日にち： 月 日

名まえ _____

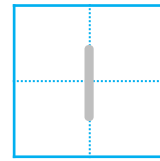
・ たまのかずをあわせるといくつでしょう。

(うすいじはなぞりましょう。)

①



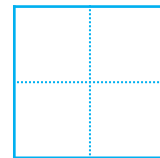
$$1 + 0 =$$



②



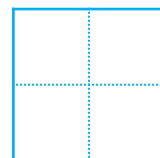
$$0 + 0 =$$



③



$$0 + 2 =$$





あわせていくつ8

● 0のたしざん

3

日にち： 月 日

名まえ _____

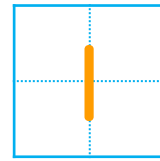
・ たまのかずをあわせるといくつでしょう。

(うすいじはなぞりましょう。)

①



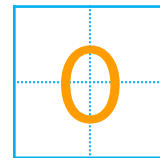
$$1 + 0 =$$



②



$$0 + 0 =$$



③



$$0 + 2 =$$

