



10より
おおきいかず 12



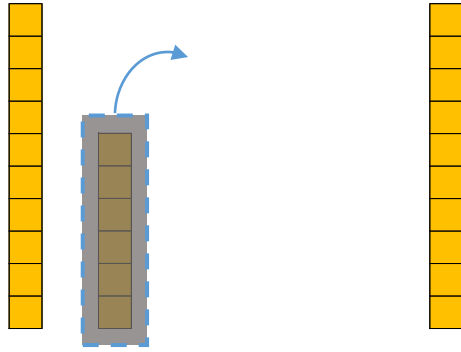
● 10になる ひきざん

日にち： 月 日

名まえ _____

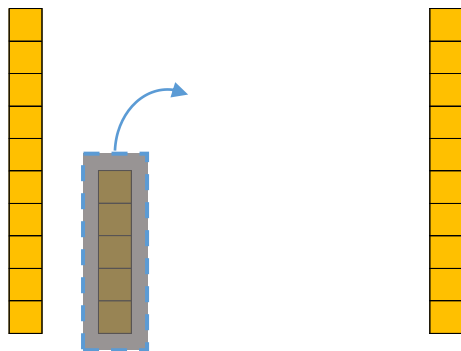
・ にかずをかきましょう。

① 16から 6をひいたかずは です。



しき：16 - 6 =

② 15から 5をひいたかずは です。



しき：15 - 5 =





10より
おおきいかず 12

3

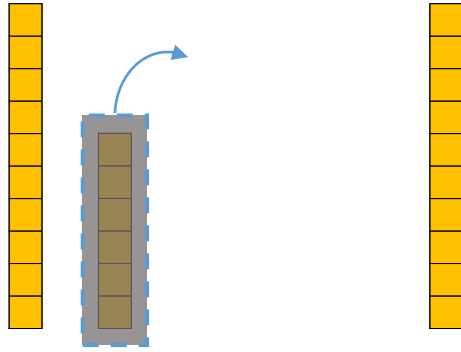
◎ 10になる ひきざん

日にち： 月 日

名まえ _____

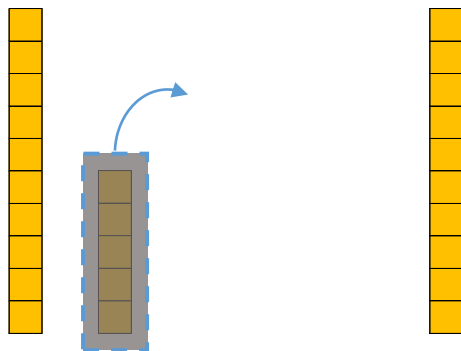
・ □ にかずをかきましょう。

① 16から 6をひいたかずは **10** です。



$$\text{しき} : 16 - 6 = \mathbf{10}$$

② 15から 5をひいたかずは **10** です。



$$\text{しき} : 15 - 5 = \mathbf{10}$$

