



10より
おおきいかず II

● 10より おおきいかずの
たしざん

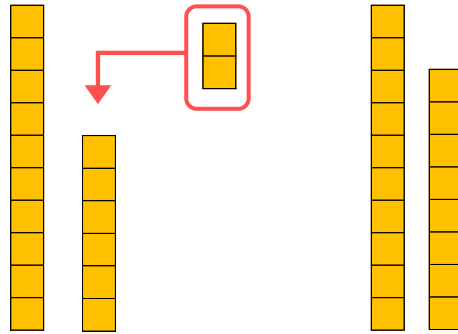


日にち： 月 日

名まえ _____

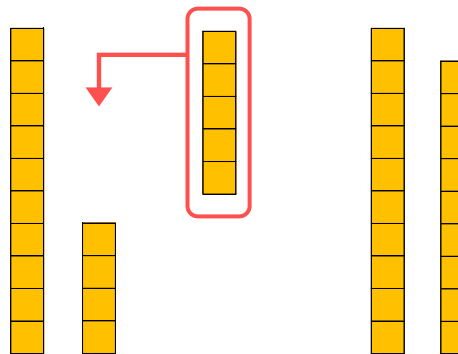
・ □ にかずをかきましょう。

① 16に 2を たした かずは □ です。



$$\text{しき} : 16 + 2 = \square$$

② 14に 5を たした かずは □ です。



$$\text{しき} : 14 + 5 = \square$$



10より
おおきいかず II

● 10より おおきいかずの
たしざん

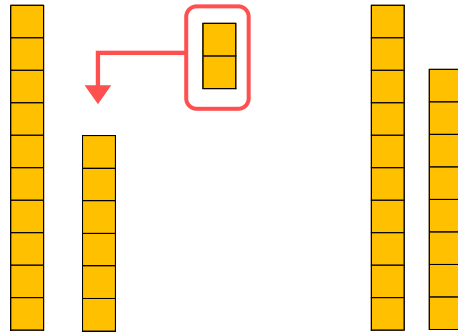


日にち： 月 日

名まえ _____

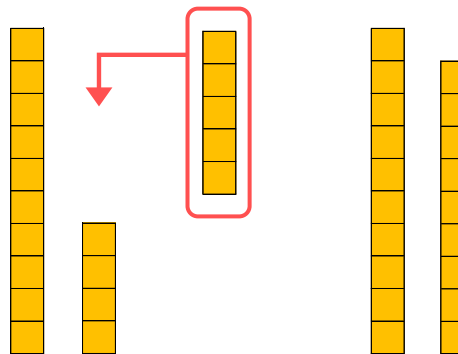
・ □ にかずをかきましょう。

① 16に 2を たした かずは 18 です。



$$\text{しき} : 16 + 2 = 18$$

② 14に 5を たした かずは 19 です。



$$\text{しき} : 14 + 5 = 19$$

