



10より
おおきいかず 13
● 10より おおきいかずの
ひきざん

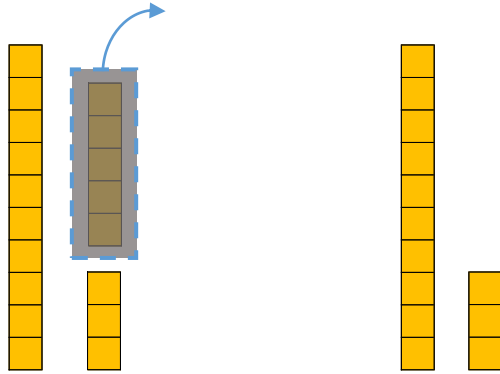


日にち： 月 日

名まえ _____

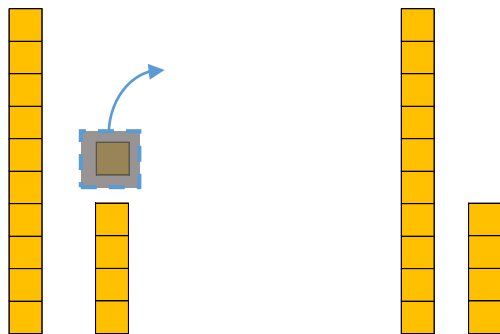
・ □ にかずをかきましょう。

① 18から 5をひいたかずは □ です。



$$\text{しき} : 18 - 5 = \square$$

② 15から 1をひいたかずは □ です。



$$\text{しき} : 15 - 1 = \square$$





10より
おおきいかず 13
● 10より おおきいかずの
ひきざん

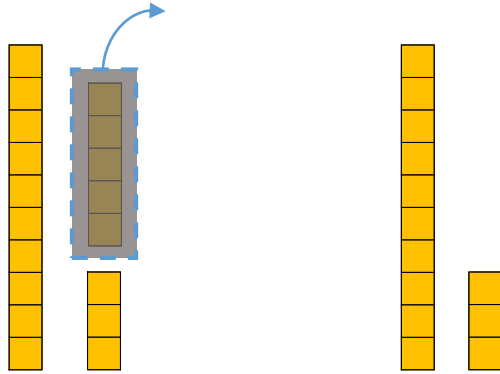


日にち： 月 日

名まえ _____

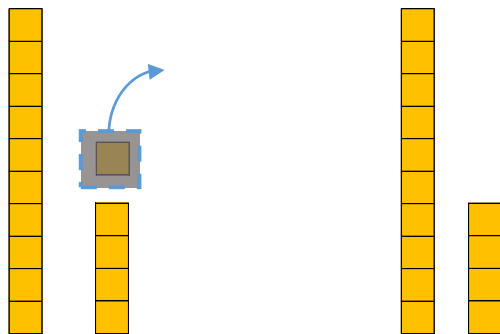
・ □ にかずをかきましょう。

① 18から 5をひいたかずは 13 です。



$$\text{しき} : 18 - 5 = 13$$

② 15から 1をひいたかずは 14 です。



$$\text{しき} : 15 - 1 = 14$$

