



おおきいかず 13

◎ 2けたと1けたのたしざん

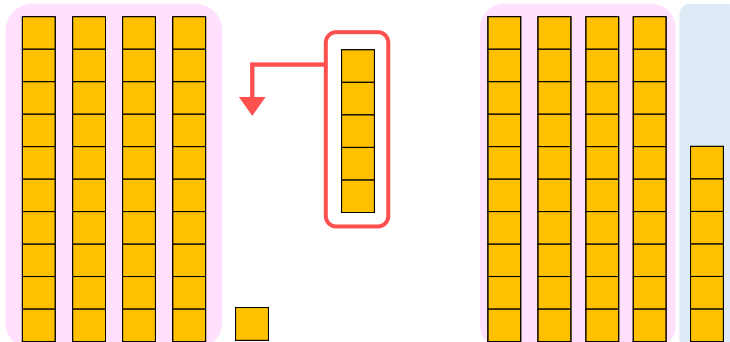


日にち： 月 日

名まえ _____

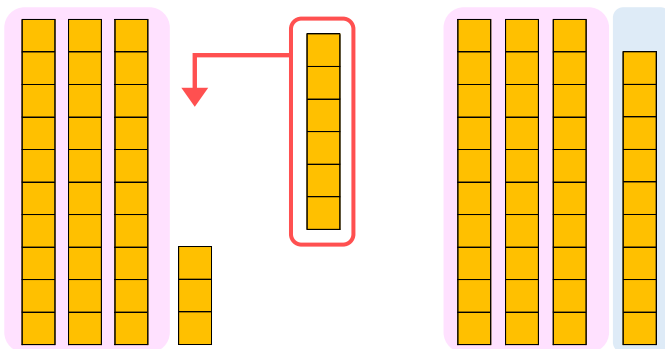
- にかずをかきましょう。(うすいじはなぞりましょう。)

① 41に5をたしたかずは です。



$$\text{しき} : 41 + 5 = \square$$

② 33に6をたしたかずは です。



$$\text{しき} : 33 + 6 = \square$$





おおきいかず 13

◎ 2けたと1けたのたしざん

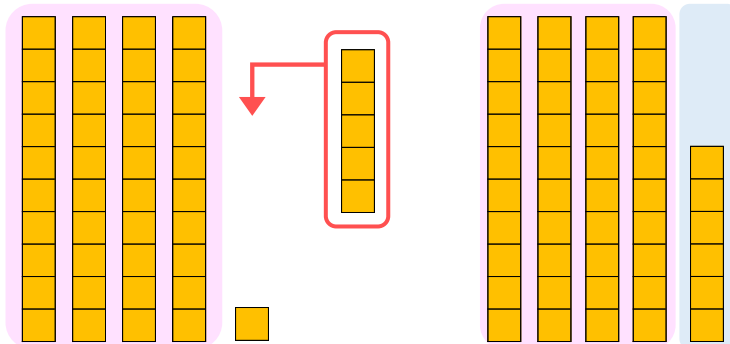


日にち： 月 日

名まえ _____

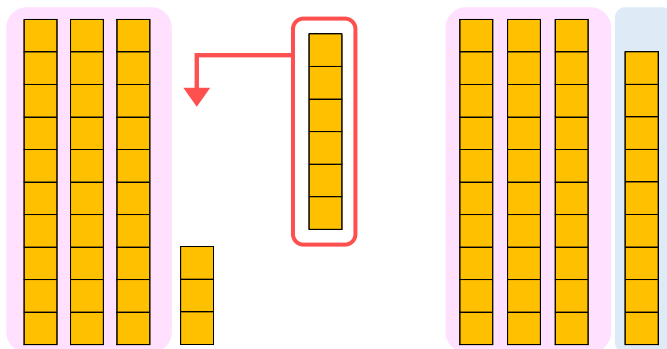
- にかずをかきましょう。(うすいじはなぞりましょう。)

① 41に5をたしたかずは **46** です。



$$\text{しき} : 41 + 5 = 46$$

② 33に6をたしたかずは **39** です。



$$\text{しき} : 33 + 6 = 39$$

