



# おおきいかず 16

◎ 2けたと1けたのひきざん

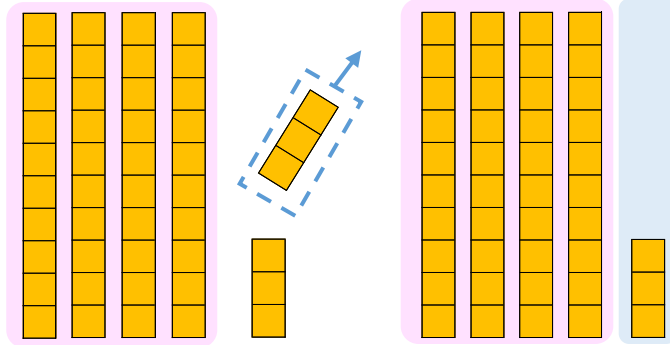


日にち：            月            日

名まえ \_\_\_\_\_

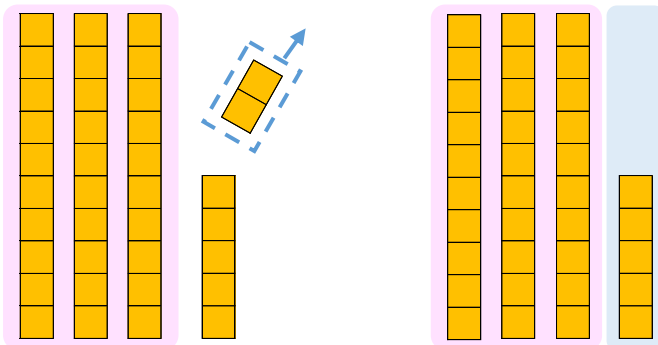
- にかずをかきましょう。(うすいじはなぞりましょう。)

① 46から3をひいたかずは 43 です。



$$\text{しき： } 46 - 3 = \square$$

② 37から2をひいたかずは    です。



$$\text{しき： } 37 - 2 = \square$$



# おおきいかず 16

◎ 2けたと1けたのひきざん

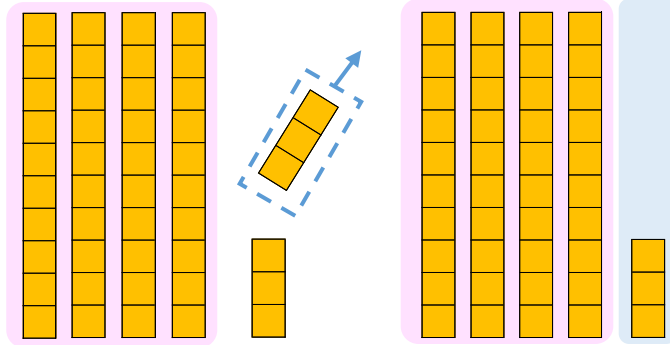


日にち：            月            日

名まえ \_\_\_\_\_

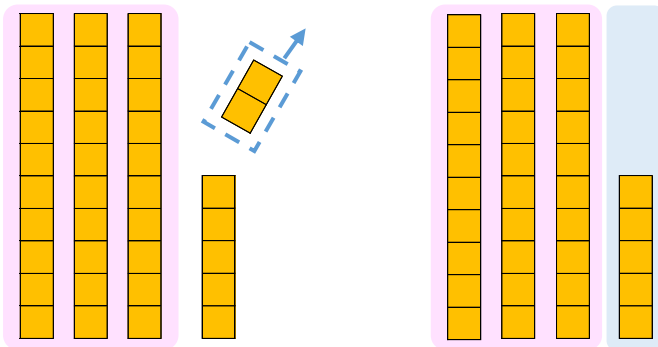
- にかずをかきましょう。(うすいじはなぞりましょう。)

① 46から3をひいたかずは **43** です。



$$\text{しき： } 46 - 3 = 43$$

② 37から2をひいたかずは **35** です。



$$\text{しき： } 37 - 2 = 35$$

